

- COMPLETA LA LINEA CON I **NUMERI MANCANTI** DA 10 A 19.

10	13	...	15	19
----	-----	-----	----	-----	----	-----	-----	-----	----

- COMPLETA LA **LINEA DEI NUMERI** IN ORDINE **CRESCENTI**, DA 7 a 16.

7	10	15	...
---	-----	-----	----	-----	-----	-----	-----	----	-----

- COMPLETA LA **LINEA DEI NUMERI** IN ORDINE **DECRESCENTI**, DA 20 a 11.

20	16	11
----	-----	-----	-----	----	-----	-----	-----	-----	----

- SCRIVI I NUMERI **IN LETTERE**.

11 =

16 =

18 =




13 =



14 =

15 =



- SCRIVI IL NUMERO CHE VIENE SUBITO **PRIMA** E QUELLO CHE VIENE SUBITO **DOPO**.

		
------------------------------------------------------------------------------------	-------------------------------------------------------------------------------------	-------------------------------------------------------------------------------------

		
--------------------------------------------------------------------------------------	---------------------------------------------------------------------------------------	---------------------------------------------------------------------------------------