


LKPD INTERAKTIF KELAS 2 TEMA 4 HIDUP BERSIH DAN SEHAT

SUBTEMA 1 HIDUP BERSIH DAN SEHAT DI RUMAH



NAMA :

KELAS :



Adik-adik, bacalah teks ini dengan cermat ya!

Dayu dan keluarga sudah tahu cara menjaga kebersihan rumah. Mereka selalu membersihkan rumah bersama. Kebersamaan dalam keluarga harus selalu dijaga

Amati gambar kebersamaan Dayu dengan keluarga!



### SOAL PILIHAN GANDA

1. Kebersamaan dalam keluarga adalah wujud dari...
  - a. Perjalanan
  - b. Persatuan
  - c. Perbedaan
  
2. Kegiatan di rumah yang menggambarkan kebersamaan seperti ....
  - a. Mandi sore
  - b. Makan bersama
  - c. Menyiram tanaman
  
3. sikap apa saja yang harus dimiliki agar terwujud persatuan dalam keluarga...
  - a. mau menang sendiri
  - b. tidak menghargai orang lain
  - c. membantu anggota keluarga yang kerepotan

Nyanyikan lagu berikut bersama temanmu!




Apakah isi syair lagu yang sudah kamu nyanyikan?


- a. Membuang sampah pada tempatnya
- b. Membuang sampah sembarangan
- c. Tidak menyapu halaman
- d. Tidak menjaga kebersihan

### SOAL JOIN ARROW

Pasangkan gambar bangun datar dengan sisi, sudut, dan titik sudut yang tepat pada kolom berikut!



Jajargenjang  
Banyak Sisi : 4 Banyak Sudut : 4.  
Banyak Titik Sudut : 4



Segi enam  
Banyak Sisi : 6 Banyak Sudut : 6  
Banyak Titik Sudut : 6



Segi lima  
Banyak Sisi : 5 Banyak Sudut : 5  
Banyak Titik Sudut : 5

Pasangkan kata-kata berikut dengan makna yang sesuai !

Bersih

Teratur Baik

Sehat

Bebas dari penyakit

Rapi

Bebas dari kotoran

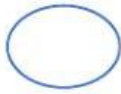
**SOAL ISIAN SINGKAT**

1. Kebersihan di rumah adalah tanggung jawab dari semua
2. Membuang sampah sebaiknya pada

**SOAL CHECK BOX**

Diantara pernyataan dibawah ini, manakah pernyataan yang benar tentang sisi, sudut, dan titik sudut pada bangun datar? Pilihan dengan mencentang semua jawaban yang benar!

Segi enam memiliki 6 titik sudut




Segi empat memiliki 3 sisi




Trapezium memiliki 6 titik sudut



Belah ketupat memiliki empat sisi yang sama besar



Lingkaran memiliki 1 sisi



#### SOAL DROP DOWN



Gerakan Anggota tubuh yang bagian apa saja yang ada dalam anggota tubuh yang bergerak adalah?

### SOAL WORD SEARCH

Temukan kata-kata dalam tabel yang mempunyai makna sebagai berikut !

1. Bagian bawah dari ruangan.
2. Tingkap.
3. Tempat udara dapat keluar masuk.

<b>A</b>	<b>V</b>	<b>I</b>	<b>I</b>	<b>L</b>	<b>T</b>	<b>T</b>
<b>J</b>	<b>E</b>	<b>N</b>	<b>D</b>	<b>E</b>	<b>L</b>	<b>A</b>
<b>A</b>	<b>N</b>	<b>M</b>	<b>J</b>	<b>D</b>	<b>E</b>	<b>A</b>
<b>O</b>	<b>T</b>	<b>I</b>	<b>B</b>	<b>V</b>	<b>A</b>	<b>G</b>
<b>L</b>	<b>I</b>	<b>A</b>	<b>D</b>	<b>R</b>	<b>M</b>	<b>G</b>
<b>K</b>	<b>L</b>	<b>A</b>	<b>N</b>	<b>T</b>	<b>A</b>	<b>I</b>
<b>J</b>	<b>A</b>	<b>A</b>	<b>M</b>	<b>M</b>	<b>N</b>	<b>H</b>
<b>M</b>	<b>S</b>	<b>Z</b>	<b>N</b>	<b>N</b>	<b>J</b>	<b>A</b>
<b>N</b>	<b>I</b>	<b>X</b>	<b>V</b>	<b>T</b>	<b>G</b>	<b>F</b>

Setelah menyelesaikan LKPD online ini, bacalah petunjuk berikut!

1. Setelah Anda mengerjakan semua soal, periksalah kembali jawaban Anda.
2. Jika Anda sudah yakin dengan semua jawaban, klik tombol FINISH
3. Tulis nama lengkap Anda pada kolom Enter your full name
4. Tulis kelas Anda pada kolom Group/level
5. Tulis mata pelajaran Anda pada kolom School subject
6. Klik Send