

## Nombres

### 1. Ecris en chiffre.

trente-six : .....

dix-sept : .....

quatre-vingt-trois : .....

cinquante-huit : .....

septante-et-un : .....

treize : .....

### 2. Ecris les nombres au bon endroit.

69 - 22 - 33 - 81

18		25			72
----	--	----	--	--	----

### 3. Ecris le mot convient.

avant - entre - après

64 est ..... 65

64 est ..... 60 et 70

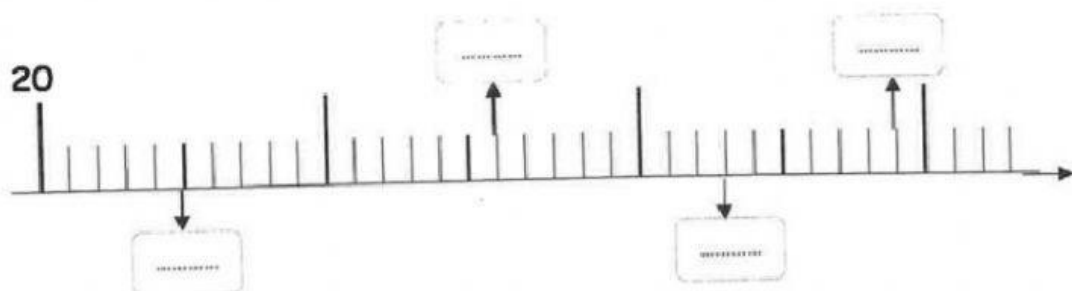
### 4. Ecris les dizaines les plus proches qui encadrent le nombre.

..... &lt; 37 &lt; .....

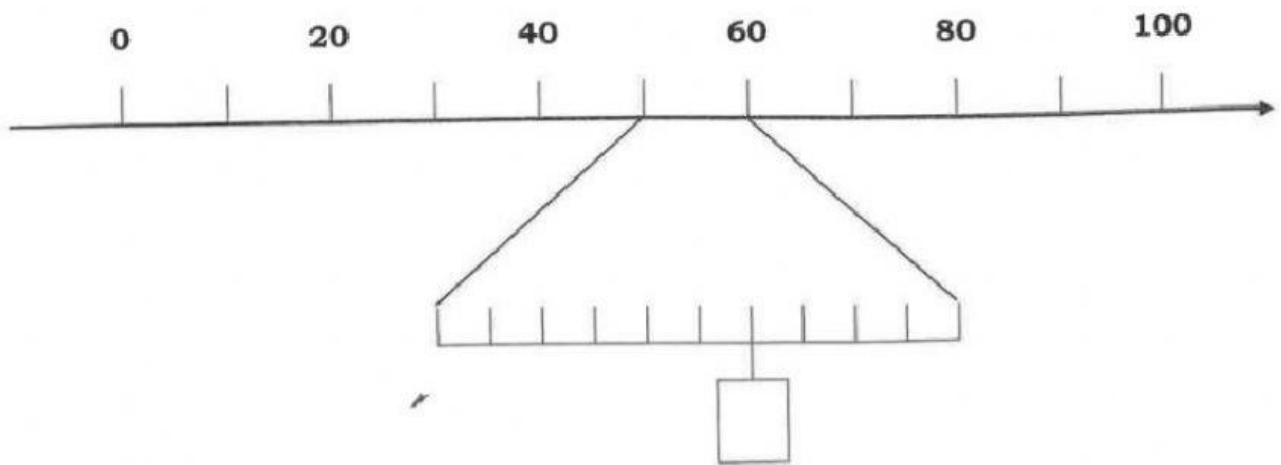
..... &lt; 45 &lt; .....

..... &lt; 86 &lt; .....


### 5. Complète les cases de la droite graduée.



6. Ecris le nombre indiqué par la case.



7. Situe le nombre entre deux autres nombres de la droite graduée.



37 se situe entre ..... et .....

84 se situe entre ..... et .....

8. Ecris le nombre

	<u>Dizaines</u>	<u>Unités</u>