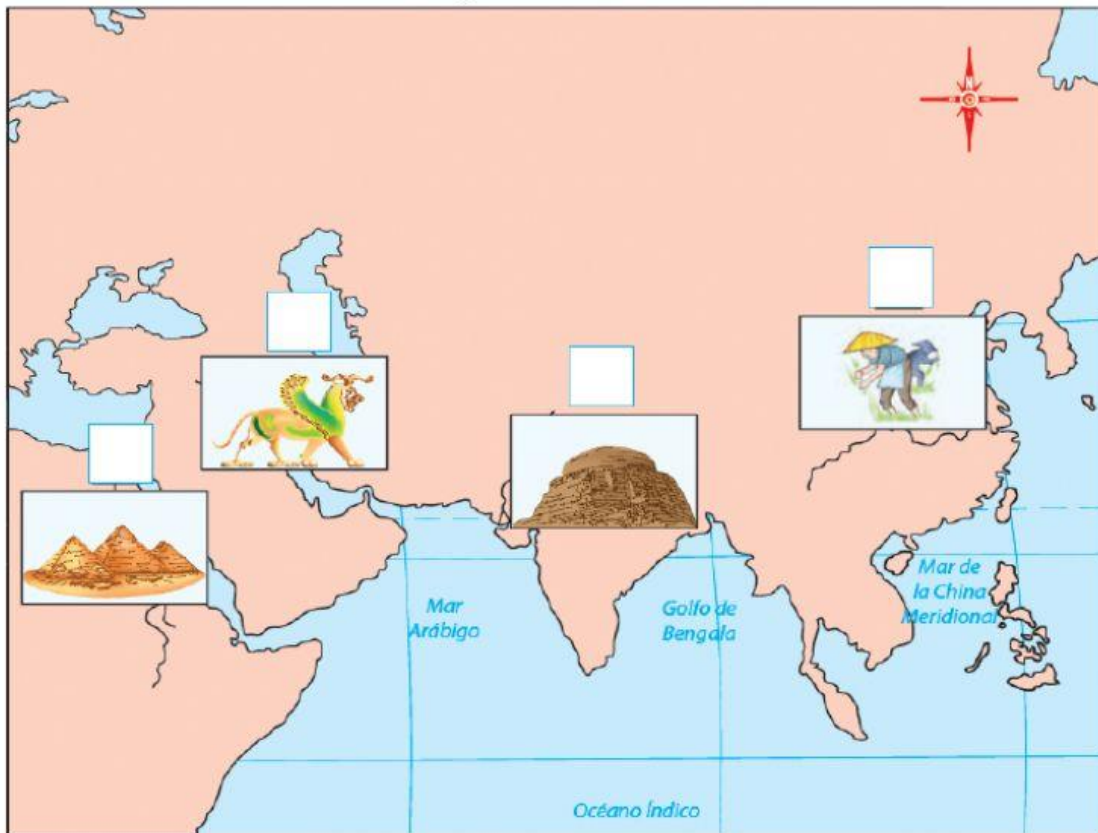


Las civilizaciones agrícolas

Nombre del alumno: _____

Escribe en el mapa el número que corresponde a cada civilización agrícola.

Las civilizaciones agrícolas 3500 a. de C. - 500 a. de C.



1. Mesopotamia
2. China
3. Egipto
4. India

Subraya la opción que completa de manera correcta.

El ser humano se volvió sedentario porque...

- a) había escasez de alimentos.
- b) produjo sus propios alimentos.
- c) domesticó a los animales.
- d) quería poseer territorios.

Las civilizaciones se establecieron a orillas de los ríos porque...

- a) proporcionaban agua y recursos (pesca).
- b) beneficiaban a los gobernantes.
- c) eran un espacio destinado al juego.
- d) ampliaban sus territorios.

Los ríos permitieron a las civilizaciones agrícolas desarrollar...

- a) sistemas de numeración.
- b) sistemas de escritura.
- c) técnicas de irrigación (canales y diques).
- d) métodos curativos.

Los ríos también permitieron que los pueblos de las civilizaciones agrícolas...

- a) disminuyeran sus tierras fértiles.
- b) se comunicaran por medio de la navegación.
- c) cosecharan cereales de mala calidad.
- d) obtuvieran cosechas austeras.

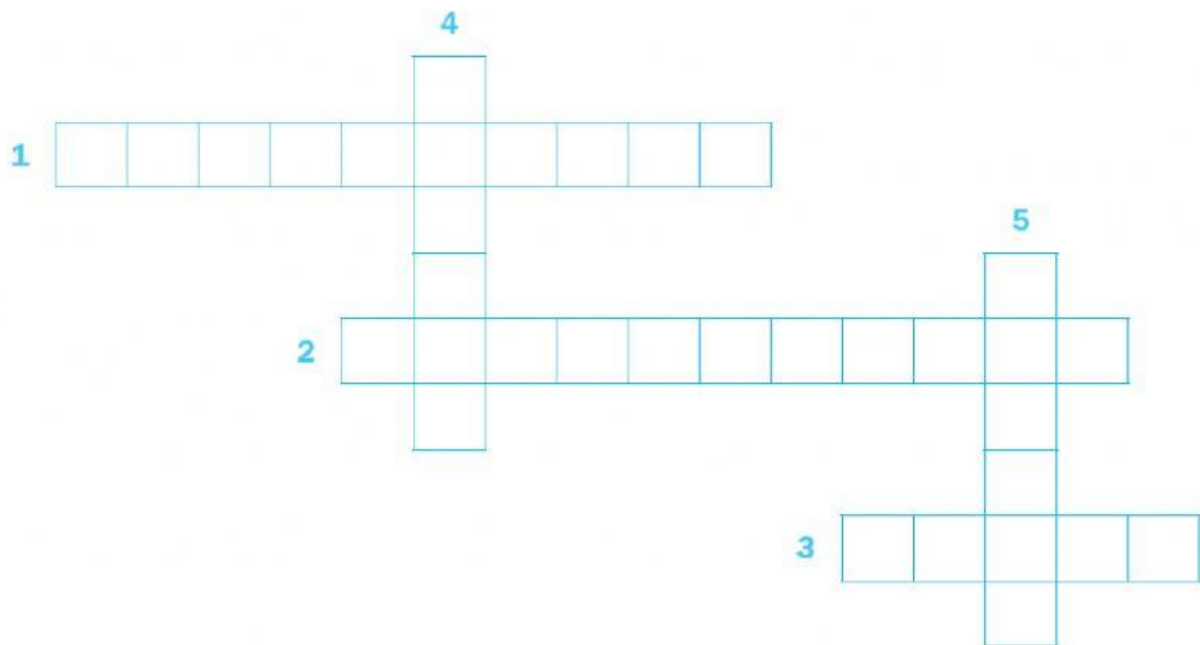
Completa las oraciones y resuelve el crucigrama.

Horizontales

1. Las técnicas de _____ consisten en transportar el agua de los ríos a los cultivos.
2. _____ significa "tierra entre ríos".
3. La civilización _____ creció a las orillas del Hoang-ho.

Verticales

4. El río _____ ayudó al desarrollo de la civilización india.
5. El _____ es uno de los ríos de los que se nutrió la civilización de Mesopotamia.



Completa las oraciones con las palabras del recuadro.

vaysias

castas

teocráticos

sacerdotes































politeístas

Las civilizaciones agrícolas adoraban a varios dioses, por tanto, eran _____

Tenían gobiernos _____ en los que los sacerdotes ejercían el poder.

En la India, la sociedad se dividía en _____

Descifra el mensaje escrito en jeroglíficos egipcios.

 A	 B	 B	 C	 D	 E
 F	 G	 H	 H	 I	 J
 K	 L	 M	 N	 N	 O
 P	 Q	 R	 S	 T	 T
 U	 V	 W	 X	 Y	 Z

