

## APORTE DE 3ER PARCIAL ECA

### BÁSICA SUPERIOR

COLEGIO:

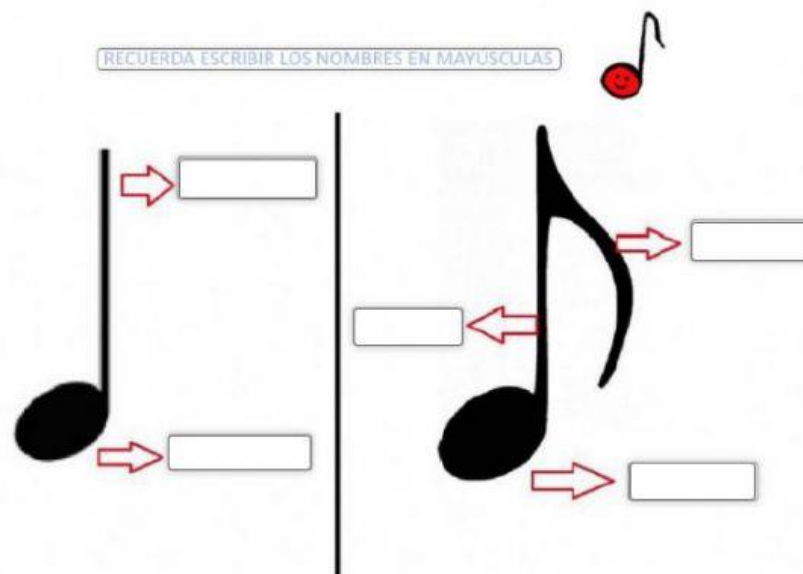
NOMBRE:

CURSO: PARALELO:







FECHA:

#### 1. RECONOCE LAS PARTES DE LA FIGURA MUSICAL

1.- COMPLETA LOS SIGUIENTES RECUADROS SOBRE LAS FIGURAS MUSICALES Y SUS DISTINTAS PARTES



#### 2. RELACIONA CADA FIGURA CON SU NOMBRE Y VALOR CORRESPONDIENTE:


























			REDONDA	
			BLANCA	
			NEGRA	
			CORCHEA	
			SEMICORCHEA	
			SILENCIO DE NEGRA	

- 4 PULSOS
- 1/2 PULSO
- 1/4 PULSO
- 2 PULSO
- 1 PULSO

### 3. REALIZA LA SUMA DE LOS SIGUIENTES VALORES DE LAS FIGURAS MUSICALES

NOTAS IMPORTANTES:

- Llena todos los espacios con números.
- Aquellos que sean de medio tiempo debes escribirlos así: ej. 1.5, o 3.5 etc. (pero usa el punto)

 +  = <input data-bbox="564 383 676 472" type="text"/>	 +  +  = <input data-bbox="1319 383 1431 472" type="text"/>
 +  = <input data-bbox="564 517 676 607" type="text"/>	 +  +  = <input data-bbox="1319 517 1431 607" type="text"/>
 +  = <input data-bbox="564 651 676 741" type="text"/>	 +  +  = <input data-bbox="1319 651 1431 741" type="text"/>
 +  = <input data-bbox="564 786 676 875" type="text"/>	 +  +  = <input data-bbox="1319 786 1431 875" type="text"/>
 +  = <input data-bbox="564 920 676 1010" type="text"/>	 +  +  = <input data-bbox="1319 920 1431 1010" type="text"/>

### 4. SELECCIONA LA RESPUESTA CORRECTA DE LAS SIGUIENTES LECTURAS RÍTMICAS:

