



**PENILAIAN AKHIR SEMESTER  
TAHUN PELAJARAN 2021/2022**

**KELAS** : I ( Satu )  
**TEMA** : III ( Kegiatan )  
**ALOKASI WAKTU** : 90 Menit

**Berilah tanda silang (X) pada jawaban yang paling benar pada huruf A, B, atau C.**

1. Perhatikan gambar dibawah ini!



Gambar diatas adalah burung ...

- A. Cenderawasih  
B. Kakak tua  
C. Garuda
2. Dasar negara Indonesia adalah ...
- A. Pancasila  
B. Tek proklamasi  
C. Hukum
3. Perhatikan gambar dibawah ini!



Bunyi Pancasila diatas jika disusun akan menjadi bunyi sila ke ...

- A. 2  
B. 3  
C. 4

4.

Keadilan sosial bagi seluruh rakyat Indonesia

Lambang dari bunyi Pancasila diatas adalah ...

A.



B.



C.



5. Pagi hari adalah anugerah dari Tuhan yang Maha Kuasa  
Maka kita harus selalu .... Kepada-Nya

A. Bersyukur

B. Mengeluh

C. Takut

6. Jika kita ditolong oleh orang lain maka sebaiknya kita mengucapkan ....

A. Selamat pagi

B. Terima kasih

C. Semoga berhasil

7. Perhatikan gambar dibawah ini!



Gambar diatas menunjukan suasana ...

A. Pagi hari

B. Sore hari

C. Malam hari

8. Perhatikan teks dibawah ini!

**Matahari bersinar terik.**

Udara terasa panas.

Bel sekolah berbunyi

tanda belajar sudah selesai.

Siswa kembali pulang ke rumah.

Teks diatas menyjukan suasana ...

- A. Pagi hari
- B. Siang hari
- C. Sore hari

9. Perhatikan teks dibawah ini!

i s ... i r a h ... t

Susunlah kata diatas menjadi benar

- A. Rehat
- B. Istirahat
- C. Siang hari

10. Perhatikan teks dibawah ini!



Aktivitas diatas menunjukan kegiatan di ...

- A. Pagi hari
- B. Siang hari
- C. Sore hari

11. Udin selalu mengerjakan aturan di rumahnya

Udin termasuk anak yang ....

- A. Bandel
- B. Nakal
- C. Patuh

12. Perhatikan gambar dibawah ini!



Jumlah ayam diatas adalah ...

- A. 7
- B. 8
- C. 9


13. Perhatikan gambar dibawah ini!



Nama bilangan diatas adalah ...

- A. Tujuh belas
- B. Delapan belas
- C. Sembilan belas

14. Perhatikan gambar dibawah ini!






Jumlah buah apel diatas adalah ...

- A. 11
- B. 12
- C. 13

15. Siti membeli buah orange sebanyak 15 buah.

Ayo bantu Siti menghitung banyak buah orange yang akan dibeli ...

- A. 
- B. 
- C. 


16. Perhatikan bilangan berikut ini.



Sekarang urutkan bilangan tersebut dari yang terkecil.

- A. 11, 12, 13, 14, 15, 16, 17, 19, 18, 20
- B. 11, 12, 13, 14, 15, 16, 17, 18, 19, 20
- C. 11, 12, 13, 14, 15, 16, 17, 18, 18, 20

17. Perhatikan gambar dibawah ini!

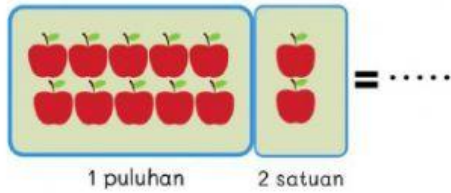


Berapa banyak gambar ayam diatas ...

- A. 13
- B. 14
- C. 15



18. Perhatikan gambar dibawah ini!



Nilai tempatan gambar diatas adalah ...

- A. 11
- B. 21
- C. 12

19. Perhatikan gambar dibawah ini!



Aktivitas yang sedang Dayu lakukan adalah ...

- A. Menyanyi
- B. Menari
- C. Olahraga

20. Udin membutuhkan kuas dan cat air.

Aktivitas yang akan dilakukan udin adalah ...

- A. Menyanyi
- B. Menari
- C. Melukis

21. Perhatikan gambar dibawah ini!



Nama keterampilan gambar diatas adalah ...

- A. Kolase
- B. Menganyam
- C. Meronce

22. Untuk membuat kolase kertas harus kita ...

- A. Tekuk – tekuk
- B. Potong – potong
- C. Gulung – gulung

23. Perhatikan lagu dibawah ini!

**Bangun Tidur**

Cipt. Pak Kasur

**Bangun tidur kuterus mandi**

**Tidak lupa menggosok ...**

**Habis mandi kutolong ibu**

**Membersihkan tempat tidurku**


Kata untuk melengkapi lagu diatas adalah ...

- A. Mandi
- B. Sikat
- C. Gigi

24. Daun merupakan bahan keterampilan terbuat dari ...

- A. Alam
- B. Plastik
- C. Tanah

25. Perhatikan gambar dibawah ini!



Kegiatan olah raga diatas adalah ...

- A. Memukul bola
- B. Melempar bola
- C. Menedang bola

26. Permainan lempar tangkap bola berguna untuk melatih keterampilan ....

- A. Menyundul
- B. Menendang
- C. Menangkap

27. Ketika menangkap bola, maka kedua tangan harus dirapatkan di ... .

- A. Samping dada
- B. Depan dada
- C. Belakang kepala

28. Saat menangkap bola pandangan mata seharusnya ke ...

- A. Samping
- B. Depan
- C. Atas

29. Perhatikan gambar dibawah ini!



Kegiatan olah raga diatas adalah ...

- A. Memukul bola
- B. Melempar bola
- C. Menedang bola

30. Memukul bola melatih otot ...

- A. Perut
- B. Lengan
- C. Kaki