



1 Số, phép cộng?

a

5		
4	và	1
3	và

$4 + 1 = 5$
 $1 + 4 = 5$

.....

b

6		
5	và
4	và
3	và

.....

.....

.....

2 Tính:

$1 + 1 = \dots$

$2 + 1 = \dots$

$3 + 1 = \dots$

$2 + 2 = \dots$

$1 + 2 = \dots$

$1 + 3 = \dots$

3) Tính:

$3 + 3 = \dots$

$1 + 4 = \dots$

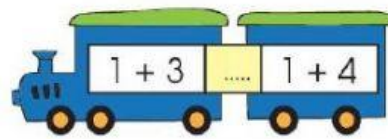
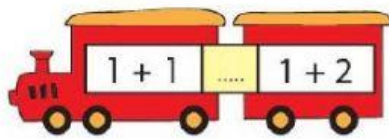

$2 + 4 = \dots$

$2 + 3 = \dots$

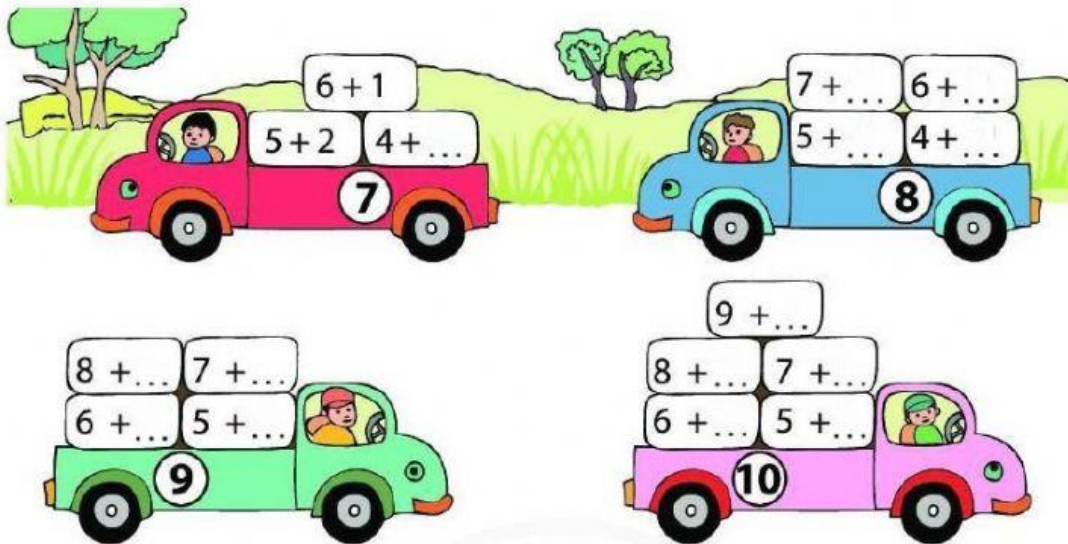
$1 + 5 = \dots$

$4 + 2 = \dots$

4)



5) Làm theo mẫu.



6) Tính:

$1 + 8 = \dots$

$2 + 6 = \dots$

$3 + 6 = \dots$

$4 + 4 = \dots$

$1 + 7 = \dots$

$2 + 7 = \dots$

$3 + 5 = \dots$

$4 + 5 = \dots$

7) Số:

$$\boxed{\dots} + 1 = 4$$

$$5 + \boxed{\dots} = 10$$

$$\boxed{\dots} + 7 = 7$$

$$1 + \boxed{\dots} = 10$$

$$\boxed{\dots} + 3 = 8$$

$$4 + 5 = \boxed{\dots} + 4$$

8) Đúng ghi đ, sai ghi s.

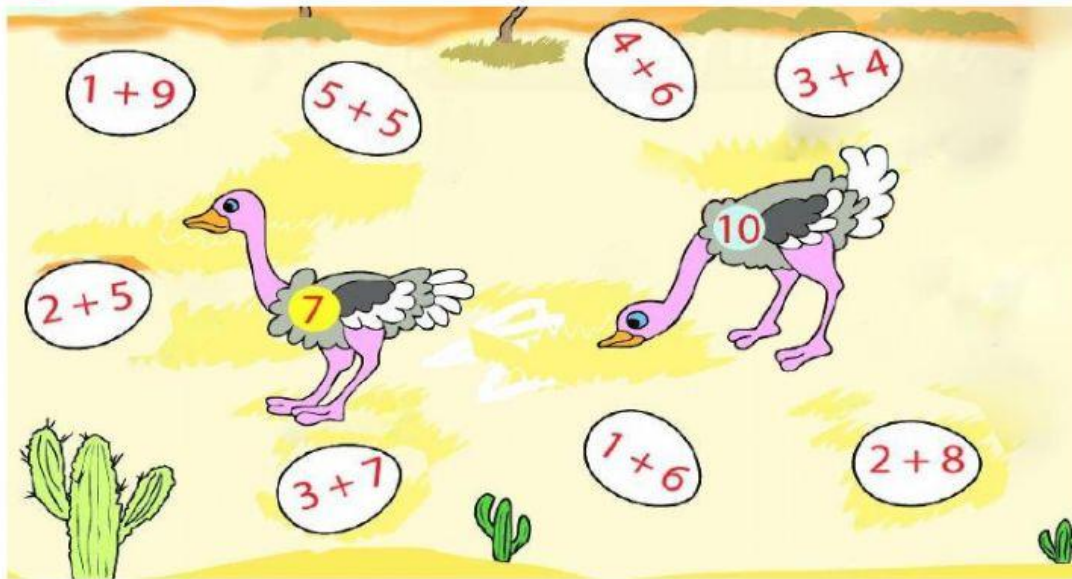
a) $1 + 3 > 3$

b) $9 + 1 = 8$

c) $6 + 4 = 4 + 6$

d) $10 + 0 > 10$

9) Giúp đà điểu tìm trứng.



10 Xem tranh và viết hai phép cộng trong phạm vi 10.



--	--	--	--	--

--	--	--	--	--