

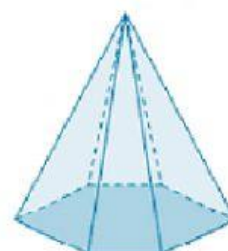
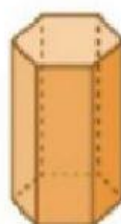
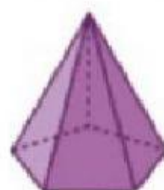
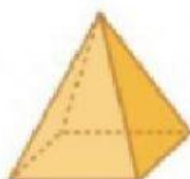
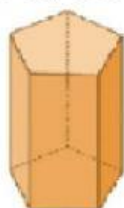
REPASO DE EXAMEN NOVIEMBRE 2021

MATEMÁTICAS

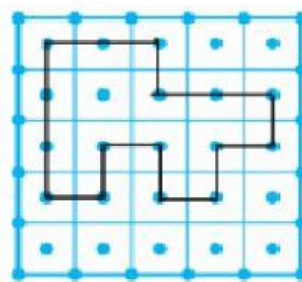
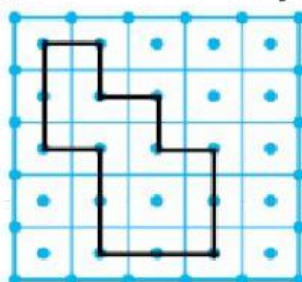
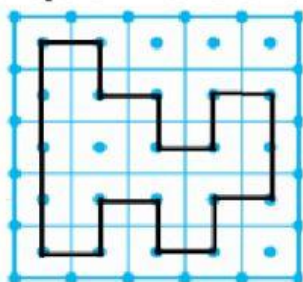
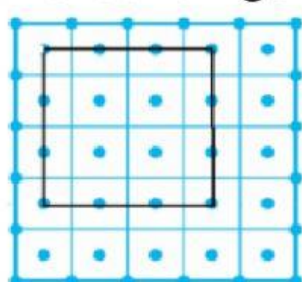
Mueve los números primos dentro de cada recuadro de menor a mayor.

2	3	4	5	6	7	8	9	11	12
13	15	17	20	23	28	29	32	33	37
41	44	47	49	53	54	59	60	61	67

Elige si es Prisma o pirámide y la forma que representa.



Marca la figura que indica 36% en el Geoplano.



Completa el muro de fracciones moviendo las partes de la fracción equivalente a la posición que le corresponde.

$\frac{1}{9}$
 $\frac{1}{8}$
 $\frac{1}{9}$
 $\frac{1}{10}$
 $\frac{1}{2}$

$\frac{1}{9}$
 $\frac{1}{5}$
 $\frac{1}{6}$
 $\frac{1}{8}$
 $\frac{1}{9}$
 $\frac{1}{10}$

$\frac{1}{6}$
 $\frac{1}{10}$
 $\frac{1}{5}$
 $\frac{1}{9}$
 $\frac{1}{3}$

$\frac{1}{10}$
 $\frac{1}{9}$
 $\frac{1}{6}$
 $\frac{1}{10}$
 $\frac{1}{8}$
 $\frac{1}{4}$

$\frac{1}{3}$
 $\frac{1}{10}$
 $\frac{1}{5}$
 $\frac{1}{6}$
 $\frac{1}{8}$

$\frac{1}{8}$
 $\frac{1}{9}$
 $\frac{1}{6}$
 $\frac{1}{10}$
 $\frac{1}{4}$

$\frac{1}{10}$
 $\frac{1}{4}$
 $\frac{1}{3}$
 $\frac{1}{9}$
 $\frac{1}{8}$

1

$\frac{1}{2}$
 $\frac{1}{10}$
 $\frac{1}{8}$
 $\frac{1}{5}$

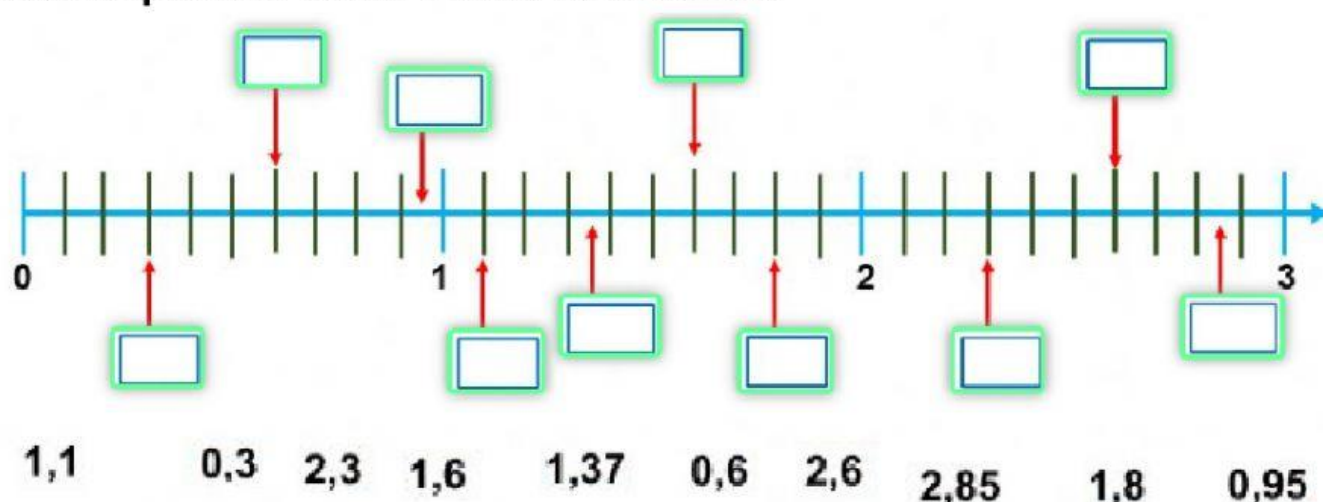
$\frac{1}{10}$
 $\frac{1}{8}$
 $\frac{1}{5}$
 $\frac{1}{6}$
 $\frac{1}{9}$
 $\frac{1}{4}$

Completa la tabla pitagórica del 11 al 20 escribiendo el resultado en los recuadros correspondientes.

	C	D	U		C	D	U		C	D	U		C	D	U
		1	1			1	2			1	3			1	4
11	1	2	1												
12					1	4	4								
13									1	6	9				
14										1	9	6			
15													2	2	5
16															
17															
18															
19															
20															

	C	D	U		C	D	U		C	D	U		C	D	U
		1	6			1	7			1	8			2	0
11															
12															
13															
14															
15															
16	2	5	6												
17					2	8	9								
18									3	2	4				
19										3	6	1			
20													4	0	0

Relaciona con el lápiz cada número con el lugar que le corresponde en la recta numérica.



Completa el siguiente cuadro de Producto directo, escribiendo el número correcto.

$$321 \times \boxed{} = 32100$$

$$52.0 \times \boxed{} = 52000$$

$$2.68 \times \boxed{} = 268000$$

$$2.00 \times \boxed{} = 2000000$$

$$85 \times \boxed{} = 8500$$

$$3.5 \times \boxed{} = 350000$$

$$.381 \times \boxed{} = 3810$$

$$156 \times \boxed{} = 1560000$$

Señala la imagen de las regletas de dos en dos, del mismo color, que representan un prisma cuadrangular.

