



Nombre: _____ Curso: _____

Fecha _____

1) Resuelve las adiciones y sustracciones.

	D	U
	○	○
-	5	3
	2	4

	D	U
	○	○
-	6	0
	2	3

	D	U
	○	○
-	6	3
	3	4

	D	U
	○	
+	4	5
	3	6

	D	U
	○	
+	4	6
	2	8

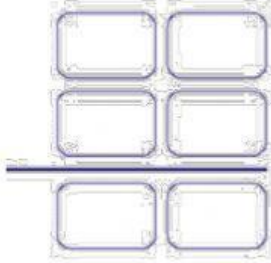
	D	U
	○	
+	5	5
	2	6

2) Resuelve los siguientes problemas.

- a. En el autobús había 19 personas y se han subido 13 más.
 ¿Cuántas personas hay en el autobús?

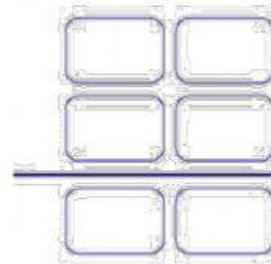
Respuesta: _____

b. En el cumpleaños de Meli hay 67 globos y se han explotado 29
¿Cuántos globos quedan?



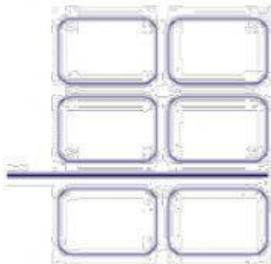
Respuesta: _____

c. En una empresa. Trabajan 56 personas en la mañana y 46 en la
tarde. ¿Cuántos personas trabajan en la empresa?



Respuesta: _____

d. Raquel tenía 97 juguetes en su tienda y vendió 28. ¿Con cuántos
juguetes quedó?



Respuesta: _____
