









MATEMATICAS PRIMARIA 1°

Une el numero correcto según corresponda a la suma

	+		=
	+		=
	+		=
	+		=

Responde al siguiente ejercicio colocando el numero correcto en cada suma.

$$\begin{array}{r} + 3 \\ 1 \\ \hline \end{array}$$

$$\begin{array}{r} + 2 \\ 3 \\ \hline \end{array}$$

$$\begin{array}{r} + 5 \\ 4 \\ \hline \end{array}$$

$$\begin{array}{r} + 5 \\ 3 \\ \hline \end{array}$$

