



PERÚ  
Ministerio  
de Educación



3ER GRADO -SEMANA 35 - DÍA 4

MATEMÁTICA

02/12/2021

APRENDO  
en casa  
Educación Primaria

“¿Seguro, posible o imposible?”

**META**



Mi propósito del día de hoy será, es que aprenderemos a identificamos sucesos seguros, probables e imposibles

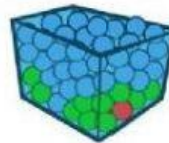
Escoge la probabilidad correcta:

Sacar una bola amarilla



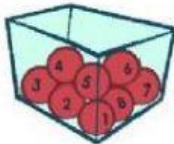
☐ Seguro  
☐ Posible  
☐ Imposible

Sacar una bola verde



☐ Seguro  
☐ Posible  
☐ Imposible

Sacar una bola roja



☐ Seguro  
☐ Posible  
☐ Imposible

Sacar una bola negra



☐ Seguro  
☐ Posible  
☐ Imposible

¿Cómo es cada suceso? Observa los dibujos y completa.




Coger sin mirar un calcetín de rayas es un suceso

\_\_\_\_\_, porque \_\_\_\_\_  
\_\_\_\_\_.



Coger sin mirar un pastelito es un suceso

\_\_\_\_\_, porque \_\_\_\_\_  
\_\_\_\_\_.



Coger sin mirar una raqueta es un suceso

\_\_\_\_\_, porque \_\_\_\_\_  
\_\_\_\_\_.