

Evaluación sumativa de EMAT  
Tercero de básica


Fecha:

Nombre:

1. Resuelve. Fíjate en los signos.

$$\begin{array}{r} 37 \\ + 19 \\ \hline \end{array} \qquad \begin{array}{r} 33 \\ - 25 \\ \hline \end{array}$$

2. Cuenta, agrupa de diez en diez y completa.



\_\_ canastas.





\_\_ decenas y \_\_ unidades.

3. ¿Qué hora es?

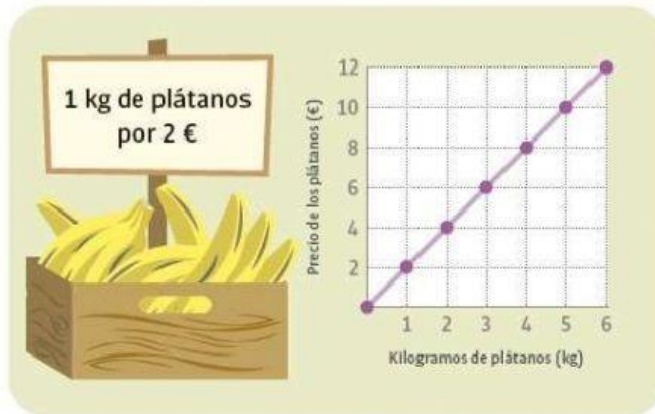


4. Selecciona la figura que cumpla con la fracción que se pide.

$\frac{3}{4}$



5. Observa el siguiente cartel. Usa la gráfica para responder las preguntas.



¿Qué cuestan 3 kilogramos de plátanos?

¿Cuántos kilogramos de plátanos puedes comprar con 8 €?