























# EL DOBLE

Une cada cantidad con su doble.



**Calcula** el doble y escríbelo.

						
<input type="text"/>	<input type="text"/>	<input type="text"/>	<input type="text"/>	<input type="text"/>	<input type="text"/>	<input type="text"/>
						
<input type="text"/>	<input type="text"/>	<input type="text"/>	<input type="text"/>	<input type="text"/>	<input type="text"/>	<input type="text"/>

Cuatro niños corren alrededor de la escuela. **Observa la lista:**

Cantidad de vueltas que corrió cada niño

Alonso	_____ 3 vueltas
Diego	_____ 7 vueltas
Miguel	_____ 6 vueltas
Mateo	_____ 3 vueltas

Alonso corrió 3 vueltas. **¿Quién corrió el doble de la cantidad de vueltas que corrió Alonso?**

a) Diego

b) Miguel

c) Mateo