



# LICEO DE LOJA

aprendiendo para ser

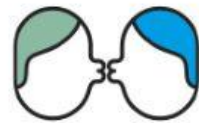
## ENFERMEDADES INFECTOCONTAGIOSAS

### BACTERIAS Y PROTOZOARIOS

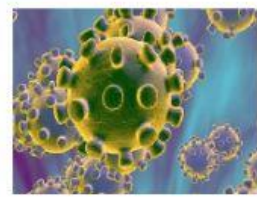
1.- SEÑALA EL CONCEPTO QUE MÁS SE ACERCA AL SIGNIFICADO DE UNA ENFERMEDAD

- A.- ES UN ESTADO QUE TENEMOS CUANDO NOS DA FIEBRE
- B.- ES EL DETERIORO DEL ESTADO FÍSICO Y EMOCIONAL
- C.- ES UN ESTADO EN EL QUE NOS SENTIMOS AGOTADOS
- D.- ES UN ESTADO MOMENTANEO QUE PRONTO PASA

2.- SEÑALA DE ACUERDO AL EJEMPLO DE QUE TIPO DE CONTAGIO SE TRATA



3.- INVESTIGA E IDENTIFICA LOS 4 MICROORGANISMOS QUE CAUSAN ENFERMEDADES



HONGOS

VIRUS

PROTOZOARIOS

BACTERIAS

4.-ESCRIBE DENTRO DEL PARÉNTESIS VERDADERO O FALSO

A.- LAS BACTERIAS SON ORGANISMOS SENSIBLES QUE VIVEN SOLO EN LUGARES ESPECÍFICOS

B.- EN EL CUERPO HAY 10 BACTERIAS POR CADA CÉLULA DEL CUERPO

C.- LA BACTERIA ES DEL TIPO DE CÉLULA EUCARIOTA

D.-EL ADN EN LA BACTERIA SE ENCUENTRA ENCERRADO DENTRO DEL NÚCLEO

5.- COLOCA LOS NOMBRES A LA SIGUIENTE BACTERIA

FIMBRIAS

CAPA MUCILAGINOSA

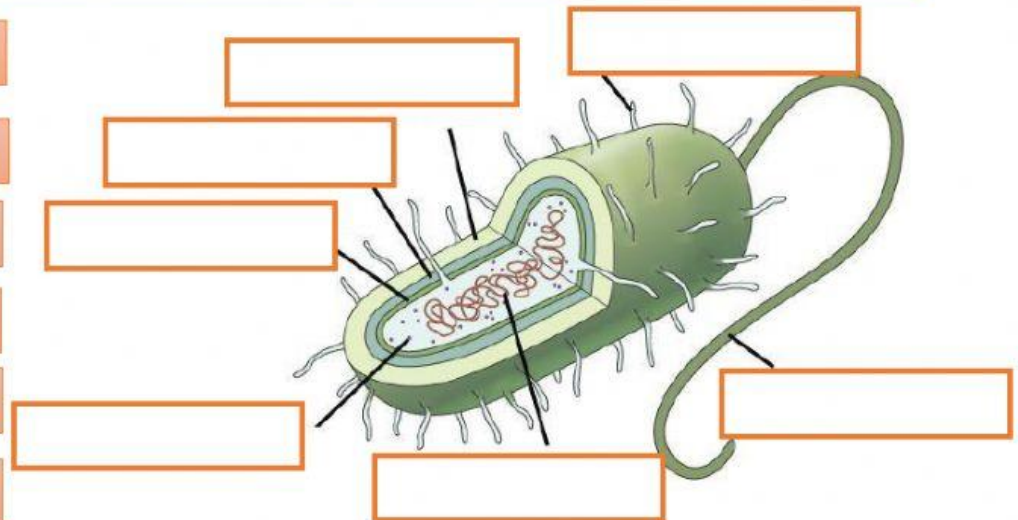
MEMBRANA CELULAR

PARED CELULAR

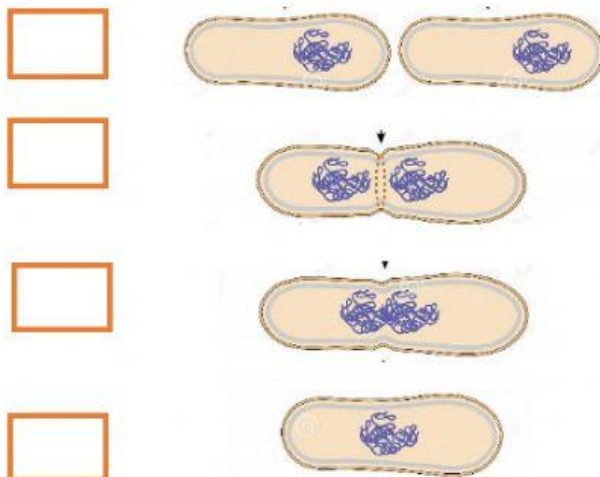
ADN

RIBOSOMAS

FLAGELOS



6.- COLOCA FRENTE A CADA GRÁFICO EL NÚMERO DE ORDEN QUE TIENEN LA BACTERIA PARA DIVIDIRSE



**7.- UNE CON UNA LÍNEA SEGÚN CORRESPONDA**



**ESTAFILOCOCO**



**COCO**



**ESPIRILLO**



**BACILO**

**8.- LEE CADA UNO DE LOS RECUADROS Y COLOCA EL NOMBRE DE LA ENFERMEDAD QUE CORRESPONDE (Escribe la respuesta con letra minúscula)**

Esta enfermedad se produce por la contaminación del agua y los alimentos

Esta enfermedad se produce cuando una persona infectada tose o estornuda

**9.-ESCOGE EL TIPO DE PROTOZOARIO SEGÚN LA CARACTERÍSTICA PRESENTADA**

A.- ESTA ENFERMEDAD SE PRODUCE POR LA PICADURA DEL MOSQUITO LLAMADO ANOPHELES

B.- SE MUEVE A TRAVÉS DE FALSOS PIES

C.- SE ENCUENTRA EN EL AGUA DE CHARCA

D.-ES OCASIONADA POR LA PICADURA DEL MOSQUITO TSÉ TSÉ