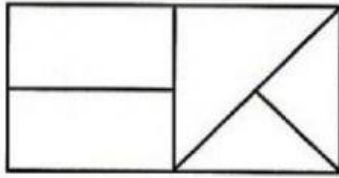


1. Vlad are cu 15 lei mai mult decât sora sa. Câți lei trebuie să cheltuiască el ca să aibă cu 3 lei mai puțin decât sora sa?

2. Priviți figura, apoi completați în casetă numărul corect.



În figură sunt:  pătrate;

dreptunghiuri;

triunghiuri.

3. Dacă înaintea unui număr de o cifră scriu cifra 3, numărul obținut este cu 9 mai mare decât numărul pe care îl vom obține dacă scriem cifra 3 la sfârșitul lui. Care este numărul?

4. Cu cât trebuie să măresc diferența numerelor 72 și 34 pentru a obține cel mai mic număr scris cu trei cifre?

5. În clasa a II-a A sunt 33 elevi. Știind că 23 de elevi participă la cercul de matematică, 16 elevi participă la cercul de limba română și un elev participă doar la cercul de pictură, aflați câți elevi participă și la cercul de matematică, și la cercul de limba română.













6. Scrieți încă patru numere (termeni) din șir:

0; 2; 6; 12; 20; 30; ; ; ;

7. Într-o cutie sunt 36 pătrate și triunghiuri, albe și roșii. Nu sunt albe 16, iar 12 sunt triunghiuri, 13 pătrate sunt roșii. Aflați câte pătrate sunt albe.

8. Câte case sunt pe partea dreaptă a unei străzi, de la casa cu numărul 36 până la casa cu numărul 52?

9. Descoperiți numerele înlocuite de figurile geometrice!

	+		=				=
	+		=	78			=
	+		=	50			=
	+		=	85			

10. Descoperiți regula după care au fost alcătuite primele două pătrate și completați-l pe al treilea:

16	72
35	53

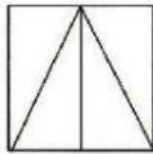
10	78
17	71

32	*
*	26

11. Angela a economisit 38 de lei. Dacă ar mai strânge 12 lei, ar avea cu 5 lei mai mult decât fratele său.

Câți lei au economisit împreună cei doi copii?

12. Priviți figura, apoi completați în casete numărul corect.



În figură sunt:  triunghiuri;

pătrate;

dreptunghiuri.

13. Bianca are 40 de baloane roșii și galbene. Decorând sala de clasă sparge 6 baloane și mai cumpără iar 5 baloane galbene. Observă că acum are 19 baloane roșii. Câte baloane roșii a avut? Câte baloane galbene are acum?

14. Bunica a pregătit pentru colindători 46 de mere și un șir de covrigi. După ce a oferit fiecărui colindător câte un măr și un covrig, constată că i-au rămas 14 mere și 13 covrigi.

Câți covrigi erau în coș?

15. Într-o încăpere sunt 9 copii. Fiecare dă mâna o singură dată cu fiecare dintre ceilalți copii. Câte strângeri de mână au loc?