



## SDLB TUNARUNGU PANGUDI LUHUR

Jl. Pesanggrahan 125, Kembangan,  
Jakarta Barat 11610, Telp. (021) 5804223

Hari, Tanggal : Kamis, 2 Desember 2021

Kelas : D.1B

Nama : ....

LAT PAS PKN

Pilihlah huruf A, B, atau C yang merupakan jawaban benar!

1. Perhatikan gambar berikut!



Gambar tersebut menunjukkan kerja sama di lingkungan ....

- A. masyarakat                      B. sekolah                      C. rumah

2. Gambar berikut menunjukkan kerjasama di **lingkungan sekolah** adalah ....



B.



C.



3. Perhatikan gambar berikut!



Gambar tersebut adalah tempat ibadah Agama ....

- A. Budha                      B. Konghuchu                      C. Hindu

4. Perhatikan gambar berikut!



Gambar tersebut menunjukkan lambang Pancasila sila ....

- A. Ketuhanan Yang Maha Esa  
B. Kemanusiaan yang adil dan beradab  
C. Persatuan Indonesia

5. Perhatikan gambar berikut!



Gambar tersebut adalah tempat ibadah Agama ....

- A. Hindu                      B. Kristen                      C. Islam

6. Perhatikan gambar berikut!



Gambar tersebut menunjukkan hari raya umat ....

- A. Islam                      B. Budha                      C. Hindu

7. Perhatikan gambar berikut!



Gambar tersebut adalah tempat ibadah Agama ....

- A. Islam                      B. Hindu                      C. Budha

8. Gambar berikut yang menunjukkan lambang Pancasila sila ke – 5 adalah ....

A.



B.



C.



9. Perhatikan gambar berikut!



Gambar tersebut adalah tempat ibadah Agama ....

- A. Islam                      B. Kristen                      C. Budha

10. Perhatikan gambar berikut!



Melakukan pekerjaan bersama-sama disebut ....

- A. disiplin                      B. gotong royong                      C. mandiri

11. Sila ke – 1 Pancasila berbunyi ....

- A. Ketuhanan yang Maha Esa  
B. Kemanusiaan yang Adil dan Beradab  
C. Persatuan Indonesia

12. Perhatikan gambar berikut!



Gambar tersebut menunjukkan hari raya Agama Kristen disebut

13. Perhatikan gambar berikut!



Gambar tersebut menunjukkan hari raya ....

A. Lebaran

B. Imlek

C. Nyepi

14. Gambar berikut yang menunjukkan kitab suci Agama Kristen adalah ....


A.



B.



C.



15. Hari raya Umat Kristen adalah ....

A. Nyepi

B. Natal

C. Idul Fitri

16. Hari raya Umat Islam adalah ....

A. Imlek

B. Idul Adha

C. Waisak

17. Hari raya Umat Budha adalah ....

A. Paskah

B. Nyepi

C. Waisak

18. Hari raya Umat Hindu adalah ....

A. Nyepi

B. Idul Adha

C. Natal

19. Hari raya Umat Konghuchu adalah ....

A. Imlek

B. Waisak

C. Nyepi

20. Gambar berikut yang menunjukkan hari raya umat Hindu ditunjukkan gambar

A.



B.



C.



21. Berikut adalah kegiatan yang dilakukan pagi hari adalah ....

A.



B.



C.





22. Hidup yang disiplin adalah hidup yang ....

A. berantakan

B. tidak rapi

C. teratur

23. Perhatikan gambar berikut!



Nama tempat ibadah yang sesuai dengan gambar tersebut adalah

24. Sikap disiplin harus dimulai dari ....

A. diri sendiri

B. orangtua

C. teman

25. Perhatikan gambar berikut!



Papa Echon bergotong royong bersama warga membangun pos ronda.

Bergotong royong membangun pos ronda mengutamakan kepentingan ....

A. bersama

B. orangtua

C. sendiri

26. Berikut ini yang merupakan gambar pengalaman menyenangkan adalah ....

A.



B.



C.



27. Berikut gambar yang menunjukkan sikap siswa yang disiplin adalah ....

A.



B.



C.



28. Ayah bekerja keras mencari nafkah, maka kita bekerja keras dalam ....

A. bermain

B. belajar

C. bercanda

29. Hidup tertib membuat kegiatan berjalan ....

A. membosankan

B. rapi

C. lama

30. Membiasakan diri bangun pagi termasuk disiplin ....

A. belajar

B. kebersihan

C. waktu

31. Jika ke sekolah sebaiknya memakai pakaian ....

A. rumah

B. seragam

C. maha

32. Gambar berikut yang sesuai dengan pengalaman Pancasila sila ke – 5 adalah ....

A.



B.



C.



33. Perhatikan gambar berikut!



Lampu lalu lintas mempunyai ... warna.

- A. 2                                      B. 3                                      C. 4

34. Perhatikan gambar berikut!



Manakah gambar yang menunjukkan lambang sila – 4 Pancasila?

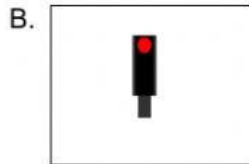
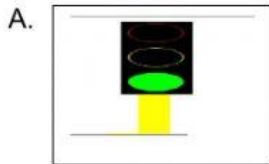
35. Kita harus berhenti berkendara saat lampu lalu lintas berwarna ....

- A. kuning                                      B. merah                                      C. hijau

36. Manfaat gotong royong adalah pekerjaan ....

- A. lama selesai                                      B. tambah berat                                      C. cepat selesai

37. Berikut gambar lampu lalu lintas yang menunjukkan **boleh berjalan** lagi adalah ....



38. Perhatikan gambar berikut!



Gambar tersebut menunjukkan pengalaman ....

- A. membahagiakan  
B. menyedihkan  
C. menyenangkan

39. Kita harus berhati-hati berkendara saat lampu lalu lintas berwarna ....

- A. merah                                      B. kuning                                      C. hijau

40. Melakukan pekerjaan dengan sungguh-sungguh dinamakan ....

- A. disiplin                                      B. bekerja keras                                      C. pantang menyerah

41. Contoh tata tertib saat makan bersama keluarga adalah ....

- A. berebut makanan dengan adik  
B. duduk dengan mengangkat kaki  
C. duduk sopan

42. Merapikan tempat tidur ialah tata tertib yang diterapkan di ....

- A. rumah                                      B. sekolah                                      C. masyarakat

43. Membersihkan kelas dengan bergotong royong merupakan contoh kebersamaan di

....

A. rumah

B. masyarakat

C. sekolah

44. Seorang pengendara motor harus mempunyai ....

A. KK (Kartu Keluarga)

B. SIM (Surat Izin Mengemudi)

C. KTP (Kartu Tanda Penduduk)

45. Jika guru menjelaskan pelajaran, sikap kita adalah ....

A. mengobrol dengan teman

B. memperhatikan

C.

membiarkan

46. Manfaat gotong royong adalah pekerjaan ....

B. lama selesai

B. tambah berat

C. cepat selesai

47. Contoh perbuatan tidak disiplin adalah ....

A. bermain bola di lapangan

B. bermain bola di dalam kelas

C. bermain bola di halaman

48. Dengan adanya aturan yang diterapkan dalam kehidupan sehari-hari, maka kita harus bersikap ....

A. suka-suka

B. disiplin

C. semaunya

49. Kerja sama bisa memupuk rasa  dalam keluarga.

50. Gambar berikut yang sesuai dengan pengalaman Pancasila sila ke – 5 adalah ....

A.



B.



C.



51. Ketika kita berjalan, sebaiknya kita berjalan ... jalan.

A. atas

B. pinggir

C. tengah

52. Ketika kita sedang di jalan, sebaiknya kita selalu mematuhi tata tertib ....

A. lalu lintas

B. sekolah

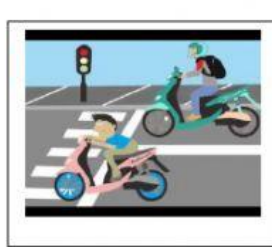
C. rumah

53. Berikut gambar yang menunjukkan **melanggar** lalu lintas adalah ....

A.



B.

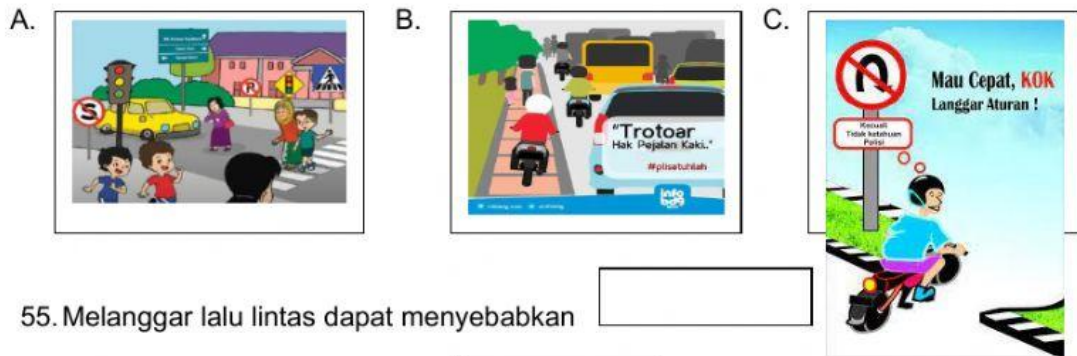


C.





54. Berikut gambar yang menunjukkan orang yang **tertib** berlalu lintas adalah ....



55. Melanggar lalu lintas dapat menyebabkan

56. Setiap anggota keluarga harus  aturan di rumah.

57. Bekerja sama dengan keluarga bisa membuat pekerjaan lebih

58. Ketika pagi hari banyak orang yang bersiap untuk

59. Para siswa pagi hari bersiap ke

60. Richo terlambat datang ke kelas.

Ia melanggar  sekolah.

61. Setelah bangun tidur, sebaiknya kita

62. Jika melanggar aturan maka kita bisa terkena

63. Sila ke – 3 Pancasila berbunyi

64. Bel sekolah berbunyi pada pagi hari. Guru meminta siswa untuk segera

65. Ketika kita sedang di jalan, sebaiknya kita selalu mematuhi tata tertib


66. Kegiatan makan pada pagi hari disebut juga

67. Sebelum berangkat sekolah, Rumi  kepada orangtuanya.

68. Tuliskan 3 **pengalaman menyenangkan!**

- a.
- b.
- c.

69. Perhatikan gambar berikut!



Gambar tersebut sesuai dengan pengalaman Pancasila sila ke -

70. Tata tertib di rumah dipatuhi oleh

71. Apa tujuan hidup tertib?

72. Perhatikan gambar berikut!



Kegiatan tersebut adalah

73. Perhatikan gambar berikut!



Gambar tersebut sesuai dengan pengalaman Pancasila  
sila ke -

74. Perhatikan gambar berikut!



Kegiatan tersebut adalah

Lengkapilah kata berikut dengan tepat!

Bhinneka tunggal ika

menjenguk

rantai

Garuda  
Pancasila

padi dan kapas

75. Perhatikan gambar berikut!



Gambar tersebut menunjukkan pengalaman



76. Perhatikan gambar berikut!



Lambang negara Indonesia adalah

77. Perhatikan gambar berikut!



Gambar tersebut menunjukkan pengalaman

78. Pita garuda Pancasila bertuliskan

79. Arti semboyan bhinneka tunggal ika adalah

80. Simbol sila – 2 dari Pancasila adalah

81. Perhatikan gambar berikut!



teman yang sakit, adalah  
contoh sikap kemanusiaan.

82. Apa arti peribahasa “Berat sama dipikul ringan sama dijinjing”?

83. Sila ke – 5 Pancasila dilambangkan dengan