


Ministerio de Educación  
Centro Bilingüe Los Pinos  
Prueba Trimestral de Matemática  
III Trimestre



Nombre: \_\_\_\_\_ Grado: I° A Fecha: \_\_\_\_\_

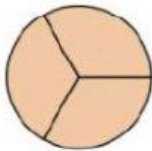
Docente: Yalisse Rosales

Valor: 60 Puntos.

**Indicaciones Generales:** Lea totalmente la prueba antes de contestar. La prueba está redactada en base a temas dados en clases.

**I. Parte. Coloque los números en las fracciones y escriba como se lee cada fracción. Valor 12pts**

1)



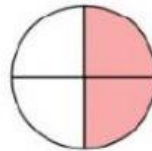
\_\_\_\_\_

2)



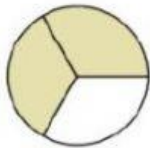
\_\_\_\_\_

3)



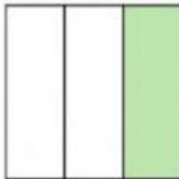
\_\_\_\_\_

4)



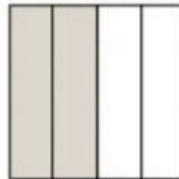
\_\_\_\_\_

5)



\_\_\_\_\_

6)



\_\_\_\_\_

**II. PARTE. Coloque en el recuadro la hora que indica la manecilla. 6pts.**



\_\_\_\_\_



\_\_\_\_\_



\_\_\_\_\_



\_\_\_\_\_


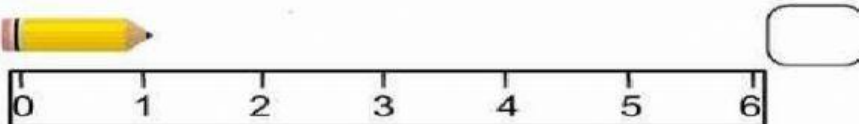
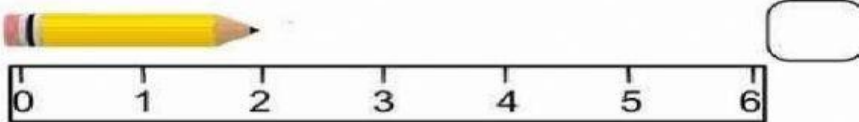



\_\_\_\_\_



\_\_\_\_\_

**III. Parte: uso mi regla para medir el c.m de cada objeto. Valor 5pts.**



**IV. PARTE. SELECCIONA QUE PRODUCTO SE PUEDE COMPRAR POR KILO. 4 PTS.**

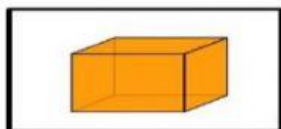


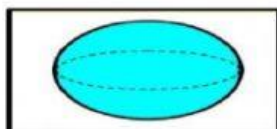
**VI Parte. Completa las siguientes preguntas sobre el calendario. Valor 7pts.**

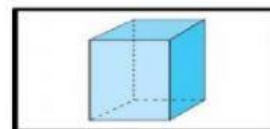
| enero  | Febrero  | Marzo  | Abril   |
|--|--|--|---|
| Lu Ma Mi Ju Vi Sa Do<br>1<br>2 3 4 5 6 7 8<br>9 10 11 12 13 14 15<br>16 17 18 19 20 21 22<br>23 24 25 26 27 28 29<br>30 31 | Lu Ma Mi Ju Vi Sa Do<br>1 2 3 4 5<br>6 7 8 9 10 11 12<br>13 14 15 16 17 18 19<br>20 21 22 23 24 25 26<br>27 28             | Lu Ma Mi Ju Vi Sa Do<br>1 2 3 4 5<br>6 7 8 9 10 11 12<br>13 14 15 16 17 18 19<br>20 21 22 23 24 25 26<br>27 28 29 30 31    | Lu Ma Mi Ju Vi Sa Do<br>1 2<br>3 4 5 6 7 8 9<br>10 11 12 13 14 15 16<br>17 18 19 20 21 22 23<br>24 25 26 27 28 29 30    |
| Mayo   | Junio  | Julio  | Agosto  |
| Lu Ma Mi Ju Vi Sa Do<br>1 2 3 4 5 6 7<br>8 9 10 11 12 13 14<br>15 16 17 18 19 20 21<br>22 23 24 25 26 27 28<br>29 30 31    | Lu Ma Mi Ju Vi Sa Do<br>1 2 3 4<br>5 6 7 8 9 10 11<br>12 13 14 15 16 17 18<br>19 20 21 22 23 24 25<br>26 27 28 29 30       | Lu Ma Mi Ju Vi Sa Do<br>1 2<br>3 4 5 6 7 8 9<br>10 11 12 13 14 15 16<br>17 18 19 20 21 22 23<br>24 25 26 27 28 29 30<br>31 | Lu Ma Mi Ju Vi Sa Do<br>1 2 3 4 5 6<br>7 8 9 10 11 12 13<br>14 15 16 17 18 19 20<br>21 22 23 24 25 26 27<br>28 29 30 31 |
| Septiembre   | Octubre  | Noviembre  | Diciembre   |
| Lu Ma Mi Ju Vi Sa Do<br>1 2 3<br>4 5 6 7 8 9 10<br>11 12 13 14 15 16 17<br>18 19 20 21 22 23 24<br>25 26 27 28 29 30       | Lu Ma Mi Ju Vi Sa Do<br>1<br>2 3 4 5 6 7 8<br>9 10 11 12 13 14 15<br>16 17 18 19 20 21 22<br>23 24 25 26 27 28 29<br>30 31 | Lu Ma Mi Ju Vi Sa Do<br>1 2 3 4 5<br>6 7 8 9 10 11 12<br>13 14 15 16 17 18 19<br>20 21 22 23 24 25 26<br>27 28 29 30       | Lu Ma Mi Ju Vi Sa Do<br>1 2 3<br>4 5 6 7 8 9 10<br>11 12 13 14 15 16 17<br>18 19 20 21 22 23 24<br>25 26 27 28 29 30 31 |


1. Nombra un mes que tenga 31 días \_\_\_\_\_
2. ¿Cuántos días tiene mayo? \_\_\_\_\_
3. ¿Cuál es el octavo mes del año? \_\_\_\_\_
4. ¿En qué mes estamos? \_\_\_\_\_
5. ¿Qué día de la semana corresponde al 9 de diciembre? \_\_\_\_\_
6. ¿Cuántos lunes tiene diciembre? \_\_\_\_\_
7. ¿Qué día de la semana es hoy? \_\_\_\_\_

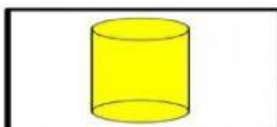
**VII. PARTE: COLOCA EL NOMBRE DE CADA CUERPO GEOMETRICO. 6 PTS.**

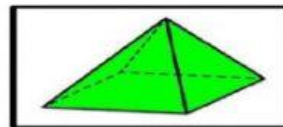












**VIII Parte: Pareo: Suma las monedas y traza una línea que una la imagen de las monedas con su valor. (7pts.)**

| Monedas   | Valor \$\$    |
|---|---------------|
|    | 0.30 centavos |
|    | Un Balboa     |
|    | 0.02 centavos |
|    | 0.10 centavos |
|   | 0.50 centavos |
|  | 0.15 centavos |
|  | 0.20 centavos |

IX. PARTE. OBSERVA. EL GRAFICO DE BARRAS QUE HIZO MARCO PARA CONTABILIZAR LOS JUGUETES QUE TIENE Y LUEGO CONTESTA LA PREGUNTAS. 4 PTS.





**X. PARTE** : Observa el dibujo y traza la línea de simetría correctamente; uniendo los puntos. 9PTS

