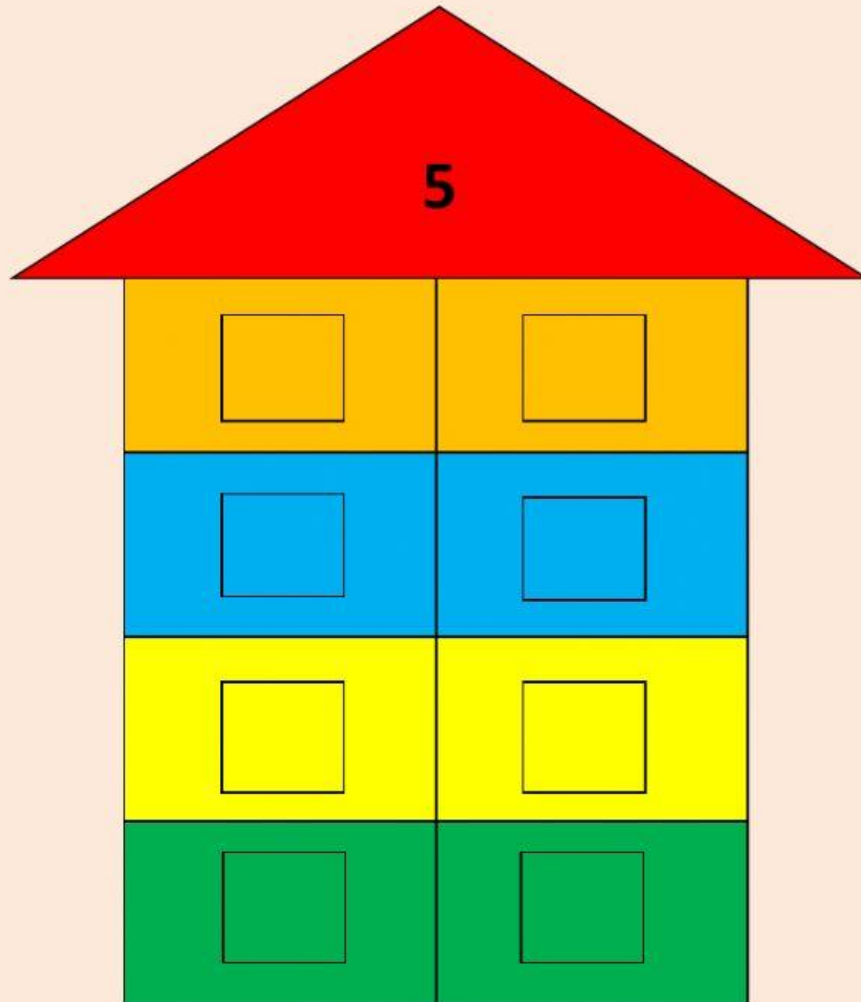


## PHIẾU BÀI TẬP BUỔI 4 - TOÁN BASIC A

Bài 1. Điền các cặp bạn bè có tổng bằng 5 vào ngôi nhà:



Bài 2. Điền dấu  $>$ ,  $<$ ,  $=$

$$11 + 3 \quad \square \quad 30 + 5$$

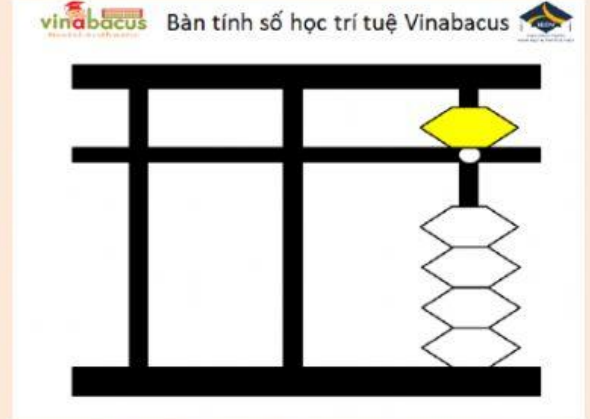
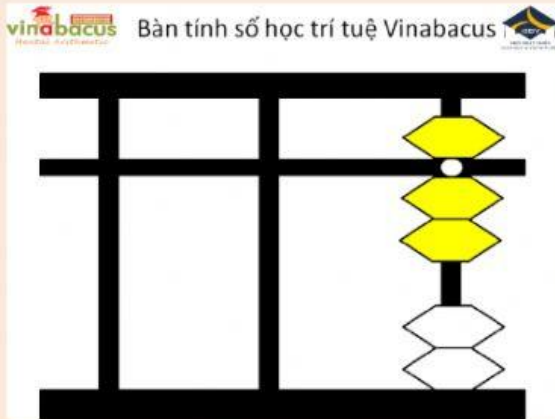
$$42 + 5 \quad \square \quad 57 - 2$$

$$67 - 5 \quad \square \quad 39 - 5$$

$$25 + 4 \quad \square \quad 26 + 3$$



### Bài 3. Nối phép tính với kết quả (thẻ số) tương ứng:



2  
4  
-1

1  
4  
2

3  
4  
-1

4  
4  
1

