

Lembar Kerja
Peserta Didik

Latihan Soal KD 3.1, 3.2, dan 3.3




Nama : _____

Nomor Presensi : _____

Pilihlah satu jawaban yang paling benar!


1. Banyak benda pada gambar berikut ini ada

- a. empat
- b. lima
- c. enam



2. Banyak benda pada gambar berikut ini ada

- a. 10
- b. 11
- c. 12





3. Gambar yang menunjukkan benda sebanyak 6 adalah

- a.
- b.
- c.

4. Gambar yang menunjukkan benda sebanyak 18 adalah

- a.



5. Nama bilangan pada gambar berikut adalah ...

- a. tiga belas
- b. empat belas
- c. lima belas

13

6. Nama bilangan sembilan ditunjukkan oleh gambar



7. Nilai tempat angka 1 pada bilangan berikut ini adalah ...

- a. puluhan
- b. Satuan
- c. ratusan

16

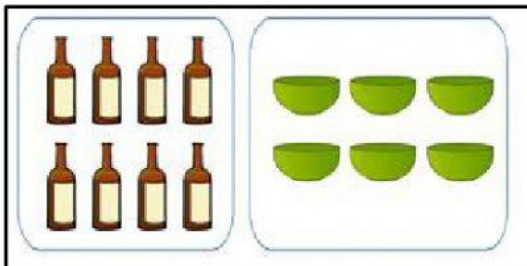
8. Nilai satuan pada bilangan berikut ini adalah angka

- a. 1
- b. 2

12

c. 3

9. Perhatikan gambar di bawah ini!

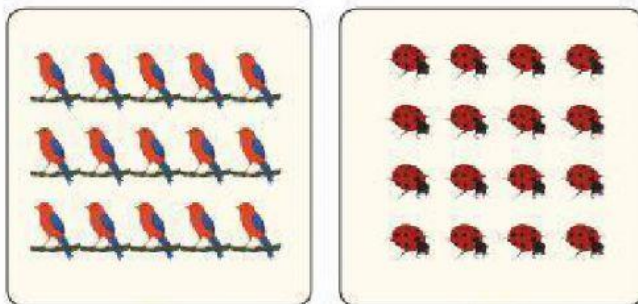


Pernyataan yang benar untuk membandingkan kedua gambar di atas adalah

....

- a. botol lebih sedikit dari mangkuk
- b. botol lebih banyak dari mangkuk
- c. botol sama banyak dengan mangkuk

10. Perhatikanlah gambar berikut ini!



Pernyataan yang benar untuk membandingkan kedua gambar di atas adalah

...

- a. burung lebih sedikit dari kumbang
- b. burung lebih banyak dari kumbang
- c. burung sama banyak dengan kumbang