



PENILAIAN AKHIR SEMESTER (PAS)

SDN DURI KOSAMBI 06 PAGI

TAHUN PELAJARAN 2021/2022

NAMA

KELAS : IV (Empat)

HARI/TANGGAL

WAKTU

TEMA | TERMIN 2

35 Menit

SBdP (KD. 3.3)

**A. Tulislah jawaban yang benar (a, b, c, atau d) pada titik-titik di akhir pertanyaan!**

1. Hal-hal yang perlu dipersiapkan sebelum pentas tari sebagai berikut, kecuali ....

- a. panggung
- b. busana tari
- c. tata rias
- d. jumlah penonton

2. Tari Bungong Jeumpa biasanya ditarikan oleh ....

- a. satu orang penari putri
- b. satu orang penari putra
- c. dua orang penari berpasangan
- d. tiga orang penari atau lebih

3. Perhatikan gambar berikut!



Gambar tersebut menunjukkan formasi tari ....

- a. sejajar
- b. menyilang
- c. zig-zag
- d. huruf V

4. Tari Bungong Jeumpa adalah tarian daerah yang berasal dari Provinsi ....

- a. Aceh
- b. Medan
- c. Maluku
- d. Jambi

5. Saat menarikan tari Bungong Jeumpa, ekspresi wajah kita harus ....


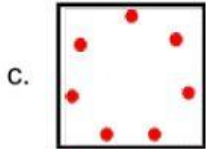


- a. ceria dan bersemangat
- b. sedih dan murung
- c. bersemangat dan berteriak-teriak
- d. susah hati dan terharu

6. Saat pentas tari, gerakan-gerakan yang ditampilkan harus sesuai dengan ....

- a. tata letak panggung
- b. formasi tari
- c. busana yang dikenakan

d. properti yang digunakan

7. Formasi diagonal atau menyilang ditunjukkan pada gambar ....



8. Tari Bungong Jeumpa adalah tarian daerah yang berasal dari Provinsi ....

- a. Aceh
- b. Medan
- c. Maluku
- d. Jambi

9. Perhatikan gambar berikut!



Diah ingin melakukan gerakan tarian seperti gambar di atas. Berikut ini cara yang harus dilakukan Diah yaitu. . .

- a. tangan kanan di bahu kiri
- b. tangan kiri di bahu kanan
- c. tangan kanan di paha kanan
- d. tangan kiri di paha kiri

10. Gita menampilkan tarian Bungong Jeumpa. Dia menari dalam dua gerakan yaitu. . .

- a. Gerakan duduk dan gerakan belompat
- b. Gerakan berdiri dan gerakan duduk
- c. Gerakan melingkar dan gerakan zig zag
- d. Gerakan manipulatif dan murni