

Nombre del Alumno: _____

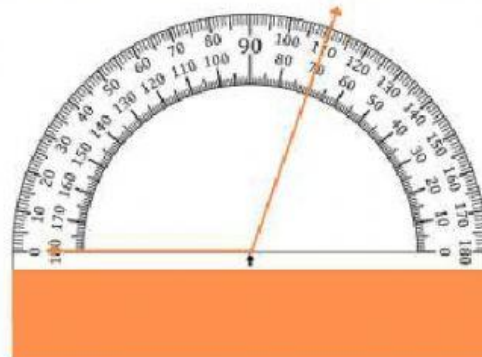
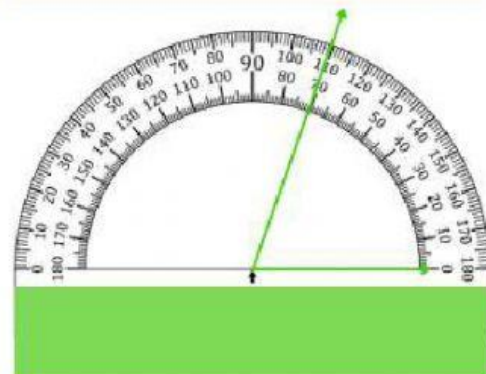
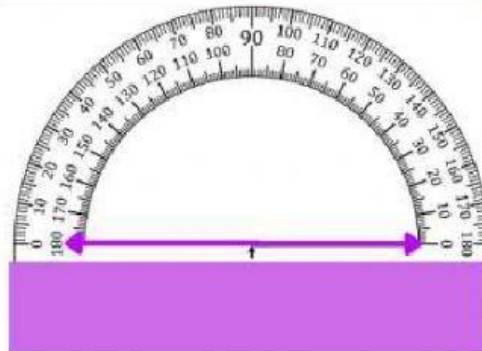
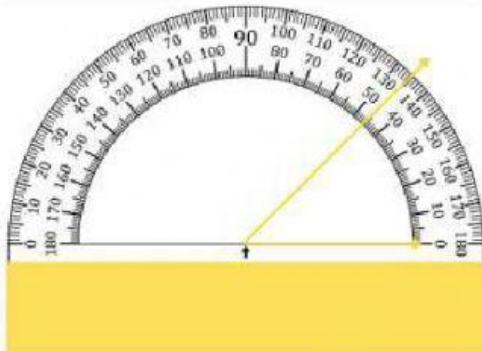
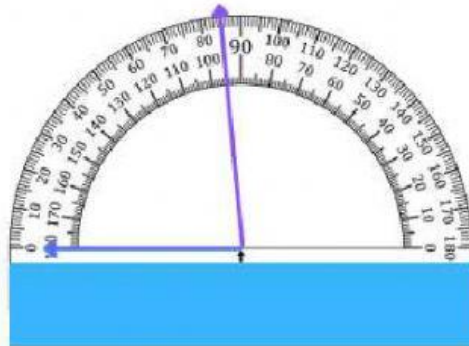
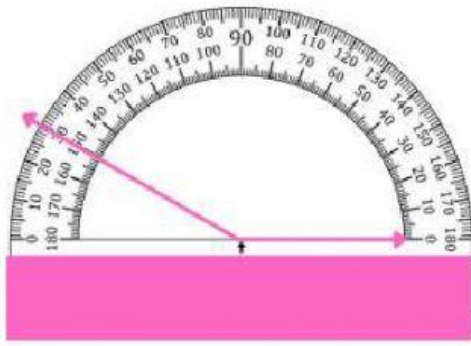
Grado y grupo: _____ Fecha: _____ del 2021

Instrucciones: Lee con atención, contesta de manera individual lo que se te indica en cada actividad.

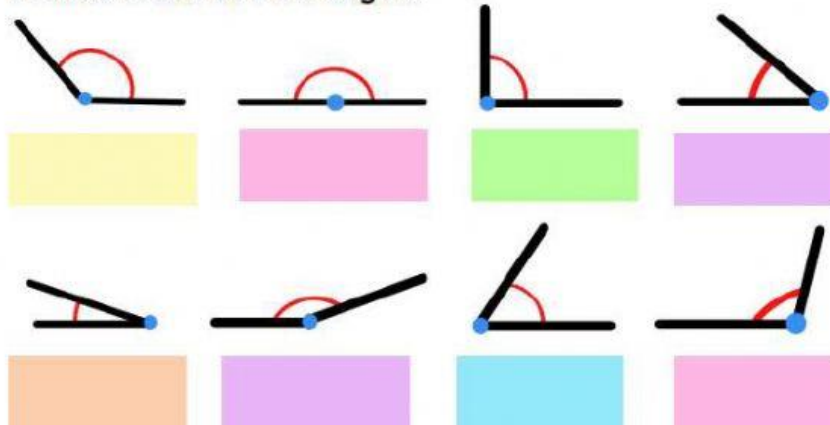
1.-

PRACTICO ÁNGULOS

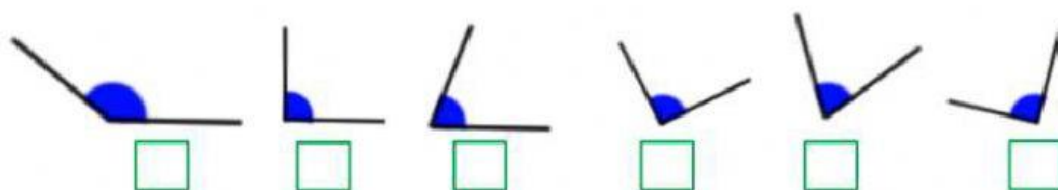
Selecciona cuanto mide el ángulo y escribe el nombre del ángulo



Escribe el nombre del ángulo



1. Marca los ángulos que son ángulos **RECTOS**:

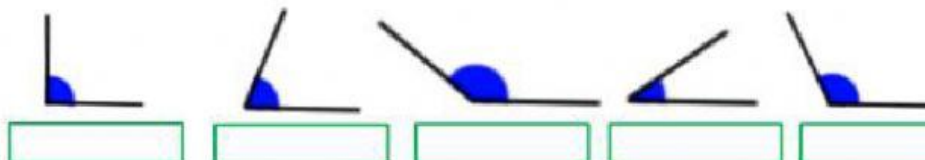


2. Contesta a estas cuestiones:

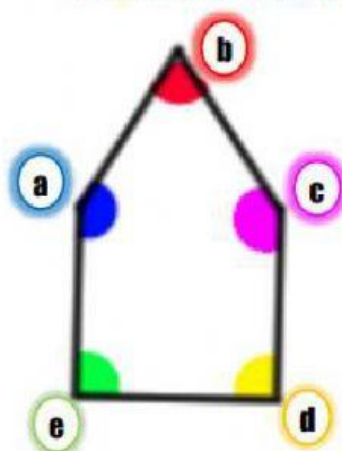
Los ángulos que son mayores que los ángulos rectos se llaman:

Los ángulos que son menores que los ángulos rectos se llaman:

3. Indica si los ángulos son **AGUDOS**, **RECTOS** u **OBTUSOS**:



4. Clasifica los ángulos que hay en el interior de esta figura:



El ángulo **a** es un ángulo

El ángulo **b** es un ángulo

El ángulo **c** es un ángulo

El ángulo **d** es un ángulo

El ángulo **e** es un ángulo