

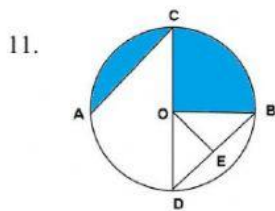
9. $(0,3 \times 1,5) : \frac{1}{5} + (1\frac{3}{4} + \frac{1}{3}) = \dots$

- a. $3\frac{1}{4}$ c. $7\frac{1}{4}$
 b. $4\frac{1}{4}$ d. $9\frac{1}{4}$

KD 3.4

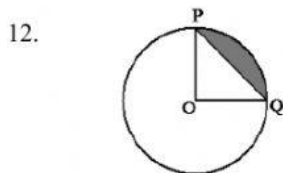
10. Dua kali dari jari-jari disebut

- a. Apotema
 b. Juring
 c. Diameter
 d. Tembereng



jari-jari lingkaran pada gambar di samping adalah

- a. O – E
 b. O – C
 c. C – D
 d. A – C



Perhatikan gambar disamping!

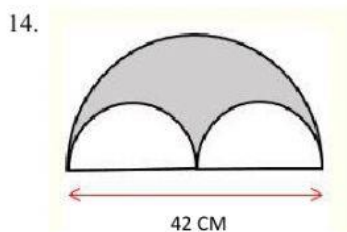
Garis lengkung PQ disebut dengan

- a. Tembereng
 b. Busur
 c. Tali busur
 d. Juring

KD 3.5

13. Sebuah lingkaran dengan luas 5.544 cm^2 . Maka jari-jari lingkaran tersebut adalahcm. ($\pi = \frac{22}{7}$)

- a. 22 cm c. 42 cm
 b. 28 cm d. 48 cm



Luas daerah arsiran di samping adalah Cm^2

- a. 346,185
 b. 557,185
 c. 814,815
 d. 1.039,815

15. Sebuah taman berbentuk lingkaran dengan diameter 28 meter akan ditanami rumput. Harga rumput adalah $\text{Rp } 8.500,00/\text{m}^2$. Biaya yang harus dikeluarkan untuk membeli rumput adalah

- a. $\text{Rp } 5.236.000,00$
 b. $\text{Rp } 8.350.000,00$
 c. $\text{Rp } 18.480.000,00$
 d. $\text{Rp } 20.944.000,00$