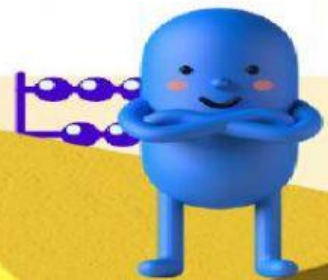



# PAS TEMA 3 KEGIATANKU



**SERIMPI  
CLASS**



**SDN  
ANGKE 03 PAGI**



**KAMIS,  
3 DESEMBER 2021**





E – LKPD

*ELECTRONIC*– LEMBAR KERJA  
PESERTA DIDIK

PENILAIAN AKHIR SEMESTER  
GANJIL TA 2021–2022

BERBASIS HOTS

*(HIGHER ORDER THINKING SKILL)*

SERIMPI CLASS

SDN ANGKE 03 PAGI



NAMA: \_\_\_\_\_

NO ABSEN: \_\_\_\_\_







## Petunjuk Pengisian E-LKPD



1. Tuliskan identitas kalian pada kotak disediakan!
2. Kerjakan setiap kegiatan yang ada pada LKPD ini.
3. Bacalah setiap petunjuk kegiatan dengan teliti sebelum mengerjakan.
4. Berdoalah sebelum mengerjakan.
5. Jika E-LKPD sudah dikerjakan semua, klik finish.
6. Setelah klik finish, maka akan muncul gambar berikut



Enter your full name:

Group/level:


School subject:

7. Pada kotak Enter your full name, tuliskan nama lengkap kalian.
  - a. Pada kotak Group/level, isi dengan angka 1
  - b. Pada kotak School subject, tuliskan SDN ANGKE 03 PAGI.



$$2+2=4$$

I. MATEMATIKA KD. 3.3 – 3.4



1. banyak kumpulan benda pada gambar adalah... .  
a. 17                      b. 18                      c. 19

**27**

2. nama bilangan tersebut adalah... .

- a. Tujuh puluh dua  
b. Tujuh belas  
c. Dua puluh tujuh

**19**

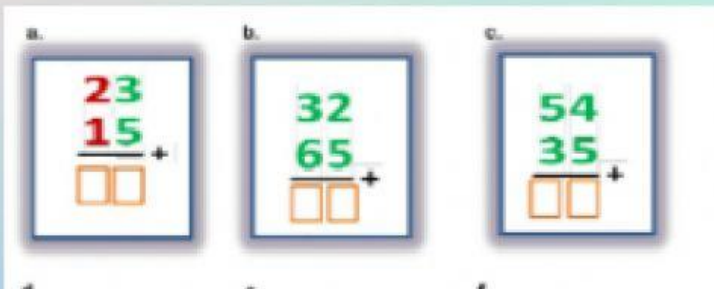
3. pada bilangan tersebut, angka 1 menempati nilai tempat... .

- a. Ratusan                      b. puluhan                      c. satuan

**36**

4. pada bilangan tersebut, angka 6 bernilai... .

- a. 600                      b. 60                      c. 6



5. hasil penjumlahan berikut, yang hasilnya 89 ditunjukkan oleh hurup... .


- a. c                      b. a.                      c. b

$$2+2=4$$



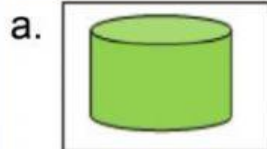
6. Buanglah sampah pada tempatnya! Tempat sampah berikut yang memiliki bentuk serupa tabung adalah...



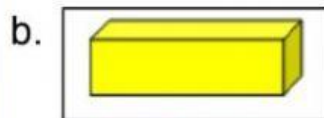
7.  topi yang digunakan pa tani pada gambar berbentuk...

- a. Tabung                      b. kerucut                      c. kubus

8. Tarik garis antara gambar dengan nama bangun yang tepat



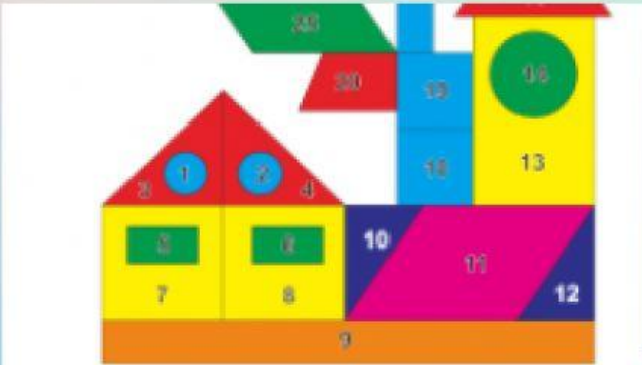
kubus



tabung



balok

9.  perhatikan gambar!

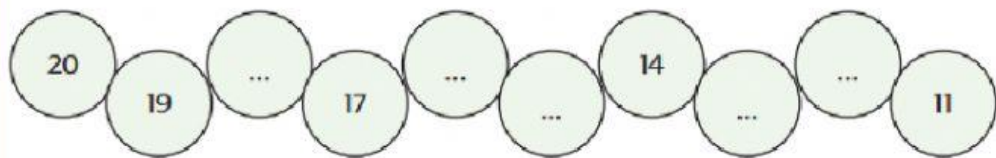
Banyak bangun segitiga pada gambar adalah ...

- a. 4                      b. 5                      c. 6





$$2+2=4$$



10.

Bilangan bilangan yang tepat untuk melengkapi kumpulan bilangan di atas adalah ... .

- a. 12-14-16-18
- b. 18-16-15-12-13
- c. 18-16-15-13-12

## II. SBDP KD. 3.1

1. Tarian daerah berikut yang gerakannya cepat adalah... .



2. Menari gerak tubuh mengikuti... .

- a. Instruksi guru
- b. irama
- c. hitungan

3. Jika tempo lagu lambat maka Gerakan tubuh... .

- a. Lambat
- b. sedang
- c. cepat



$$2+2=4$$



4. Gambar berikut yang merupakan tarian daerah Indonesia adalah....

a.



b.



c.



5. tarian pada gambar berasal dari daerah... .

a. Bali

b. Sumatra barat

c. Jawa tengah

