

PAS TEMA 2

SERIMPI CLASS




KEMENTERIAN PENDIDIKAN DAN KEBUDAYAAN
REPUBLIK INDONESIA
2017

Kegemaranku

Buku Tematik Terpadu Kurikulum 2013

Tema 2



SDN
ANGKE 03
PAGI



RABU,
1 DESEMBER
2021

E – LKPD
ELECTRONIC– LEMBAR KERJA
PESERTA DIDIK
PENILAIAN AKHIR SEMESTER
GANJIL TA 2021–2022
BERBASIS HOTs
(HIGHER ORDER THINKING SKILL)
SERIMPI CLASS
SDN ANGKE 03 PAGI

NAMA: _____

NO ABSEN: _____



Petunjuk Pengisian E-LKPD



1. Tuliskan identitas kalian pada kotak disediakan!
2. Kerjakan setiap kegiatan yang ada pada LKPD ini.
3. Bacalah setiap petunjuk kegiatan dengan teliti sebelum mengerjakan.
4. Berdoalah sebelum mengerjakan.
5. Jika E-LKPD sudah dikerjakan semua, klik finish.
6. Setelah klik finish, maka akan muncul gambar berikut

Enter your full name:



Group/level:

School subject:



7. Pada kotak Enter your full name, tuliskan nama lengkap kalian.
 - a. Pada kotak Group/level, isi dengan angka 1
 - b. Pada kotak School subject, tuliskan SDN ANGKE 03 PAGI.



I. MATEMATIKA KD. 3.3 – 3.4

1.  +  =
dayu senang mengumpulkan kaca mata renang sejak dari TK. Kalimat matematika yang tepat untuk menghitung banyak kacamata dayu adalah

- a. $6 + 2 = 8$
b. $6 + 2 = 10$
c. $8 + 2 = 10$

2.  +  Hari ini adalah pelajaran olahraga. Udin diminta pa guru menyiapkan kok untuk berlatih bulu tangkis. Banyak kok yang disiapkan udin sesuai gambar adalah

- a. 3 kok b. 6 kok c. 9 kok

3. Dayu memiliki 10 buah kacamata renang. Lani memiliki 9 buah kacamata renang. Jumlah kacamata renang dayu dan lani adalah... .

- a. $\left\{ \begin{array}{l} \text{Ada 10 dan 9 kacamata} = 10 + 9 = 19 \text{ kacamata} \\ \text{Jadi banyak kacamata dayu dan lani adalah 9 kacatamata} \end{array} \right.$
b. $\left\{ \begin{array}{l} \text{Ada 10 dan 9 kacamata} = 10 + 9 = 19 \text{ kacamata} \\ \text{Jadi banyak kacamata dayu dan lani adalah 10 kacatamata} \end{array} \right.$

c.

Ada 10 dan 9 kacamata = $10 + 9 = 19$ kacamata

Jadi banyak kacamata dayu dan lani adalah 19 kacatamata

4.



kalimat matematika yang tepat

sesuai dengan gambar adalah

a.

$$5 + 2 = 7$$

b.

$$5 - 2 = 7$$

c.

$$5 - 2 = 3$$

5.



kakak memiliki 11 buah pensil. 4 pensil kakak berikan kepada adik. Jumlah pensil kakak sekarang adalah... .

a.

$$11 + 4 = 15 \text{ Pensil}$$

Jadi pensil kakak sekarang ada 15 pensil

b.

$$11 - 4 = 15 \text{ Pensil}$$

Jadi pensil kakak sekarang ada 15 pensil

- c. $11 + 4 = 7$ Pensil
Jadi pensil kakak sekarang ada 7 pensil

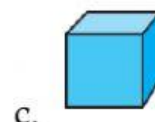
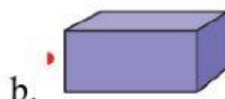
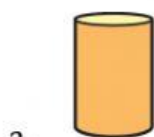
6. Benda benda disekolah memiliki banyak bentuk.

Ada yang berbentuk bola

Ada yang berbentuk tabung

Ada juga yang berbentuk kubus ataupun balok.

Gambar berikut yang memiliki bentuk kubus adalah



7. Salah satu benda disekolah yang memiliki bentuk seperti bola



adalah



8. 

perhatikan gambar. Pola gambar selanjutnya adalah






9.

pola gambar

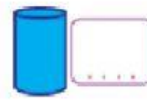
selanjutnya adalah ...



10.



Hitunglah benda berikut, sesuai dengan polanya.



Pola bilangan yang tepat adalah ...







a. 2-2-2

b. 3-3-3

c. 2-3-2


II. SBDP KD. 3.1

1. Dalam keseharian kita, tidak terlepas dari warna warna.
Perpaduan warna warna berikut yang menghasilkan warna orange
adalah

- a.  dengan 
- b.  dengan 
- c.  dengan 

2. Warna warna berikut yang termasuk ke dalam warna dasar adalah
... .
- a. Merah hijau coklat
b. Merah kuning biru
c. Merah kuning hijau



3.  alat mewarnai yang dapat kita gunakan untuk
menghasilkan karya pada gambar adalah... .
- a. Crayon b. pensil warna c. cat air

4. Siti sedang membuat gambar. Gambar yang dibuat dari sobekan sobekan kertas origami. Gambar yang dibuat siti disebut

- a. Kolase b. meronce c. jumputan

5. Gambar berikut yang tidak termasuk karya kolase adalah

