



**PENILAIAN AKHIR SEMESTER
SEMESTER I (GANJIL)
SD Anak Emas "BERKILAU"
Tahun Pelajaran 2021 / 2022**

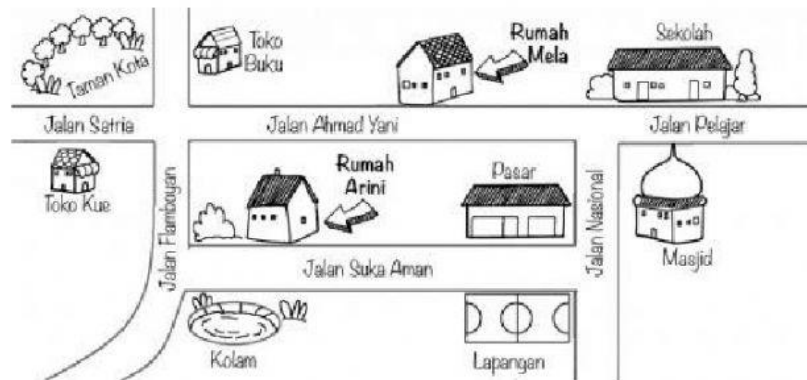
TEMA 3 "TUGASKU SEHARI-HARI"

KELAS 2

NAMA :

Bacalah soal dengan teliti dan tulis jawabanmu dengan benar!

Perhatikan gambar denah dibawah ini! (Gambar soal untuk nomer 1 – 3)



1. Rumah Arini berada di Jalan Suka Aman, yang terdapat di seberang rumah Arini yaitu ...
2. Tulislah rute perjalanan Arini dari rumah ke sekolah!
3. Apa saja bangunan yang dilewati Arini jika ia ingin ke sekolah?
4. Perhatikan gambar berikut



Kata yang sesuai dengan gambar adalah...

- a. Belajar
 - b. Bermain
 - c. Menyumbang
5. Arti kata menyumbang adalah ...
- a. Membeli sesuatu yang dijual di pasar
 - b. Memberikan bantuan dengan sukarela
 - c. Menjual barang kebutuhan sehari-hari

6. Hubungkan tugas anggota keluarga berikut dengan tepat. Hubungkan dengan garis.

a. Ayah

1. Menyapu lantai

b. Ibu

2. Merapikan mainan

c. Kakak

3. Memasak di dapur

d. Adik

4. Mencuci kendaraan

Perhatikan gambar dibawah ini



7. Alan terjatuh dari saat bermain sepeda. Alan tidak melihat ada batu di tengah jalan saat sedang bersepeda. Apa yang akan kamu lakukan apabila melihat Alan terjatuh dari sepeda? (pilih 2)

- a. Membiarkannya terjatuh
- b. Menolong Alan yang terjatuh
- c. Mengobati luka Alan
- d. Menertawakan Alan karena terjatuh

8. Ketika bertemu dengan teman di jalan sebaiknya kita...

- a. Mengucapkan salam
- b. Berteriak
- c. Memarahinya

9. Kamu dan teman bermain di rumahmu berbeda agama. Sikapmu kepada teman yang berbeda agama ketika sedang beribadah sebaiknya ...

Perhatikan gambar berikut ini



10. Manfaat dari kegiatan diatas adalah ...

11. Tulislah nilai pecahan uang berikut



Ditulis : Rp

Dibaca: rupiah

12. Nilai pecahan uang berikut adalah ...



- a. Rp 500
- b. Rp 5.000
- c. Rp 50.000

Perhatikan harga barang-barang di koperasi “Sejahtera” berikut! (gambar soal untuk nomer 13-15)

			
Spidol	Pensil	Rautan	Penghapus
Rp 5.000	Rp 2.000	Rp 1.500	Rp 3.000

13. Urutan harga barang yang paling mahal sampai yang paling murah adalah ...

14. Dayu membawa uang Rp 5.000, barang yang dapat dibeli Dayu adalah ...

15. Siti pergi ke koperasi untuk membeli 1 pensil, 1 penghapus dan 1 rautan. Total belanjaan yang harus dibayar oleh Siti adalah ...

16. Gambar imajinatif adalah ...

- a. Gambar yang dibuat berdasarkan hasil pengamatan
- b. Gambar yang dibuat berdasarkan pengalaman
- c. Gambar yang dibuat berdasarkan khayalan

17. Fungsi krayon saat menggambar adalah ...

- a. Memberi warna pada gambar
- b. Menghapus gambar
- c. Membuat sketsa

18. Contoh bahan alam dari hewan adalah ...


- a. Batu
- b. Bulu
- c. Bunga

19. Alat yang digunakan untuk menempel adalah ...


20. Tulislah 3 bahan alam yang dapat digunakan untuk membuat kerajinan!

21. Gerakan memutar kepala bertujuan untuk melatih kelenturan....

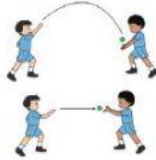
- a. otot lengan
- b. otot leher
- c. otot pinggang



22. Pada gambar disamping, budi sedang menggerakkan gerakan meliuk, budi sedang memperagakan latihan ...
- Latihan gerak Manipulatif
 - Latihan gerak Lokomotor
 - Latihan gerak non Lokomotor
23. Gambar berikut ini menunjukkan ayu sedang



- berdiri tegak
- berdiri istirahat
- berdiri Hormat Bendera



24. Pada gambar disamping, Wowo dan edi sedang melakukan lempar tangkap bola kecil, mereka sedang melakukan latihan
- Latihan gerak non Lokomotor
 - Latihan gerak Lokomotor
 - Latihan gerak Manipulatif



25. Arman sedang latihan menyundul bola kedalam gawang, menyundul bola termasuk latihan gerak.....