

PAS TEMA 1

**SDN ANGKE
03 PAGI**

**SERIMPI
CLASS**

**SELASA,
30 NOVEMBER
2021**



E – LKPD

ELECTRONIC– LEMBAR KERJA
PESERTA DIDIK

PENILAIAN AKHIR SEMESTER
GANJIL TA 2021–2022

BERBASIS HOTs

(HIGHER ORDER THINKING SKILL)

SERIMPI CLASS

SDN ANGKE 03 PAGI

NAMA: _____

NO ABSEN: _____



Petunjuk Pengisian E-LKPD



1. Tuliskan identitas kalian pada kotak disediakan!
2. Kerjakan setiap kegiatan yang ada pada LKPD ini.
3. Bacalah setiap petunjuk kegiatan dengan teliti sebelum mengerjakan.
4. Berdoalah sebelum mengerjakan.
5. Jika E-LKPD sudah dikerjakan semua, klik finish.
6. Setelah klik finish, maka akan muncul gambar berikut

Enter your full name:

Group/level:

School subject:

Send

7. Pada kotak Enter your full name, tuliskan nama lengkap kalian.
 - a. Pada kotak Group/level, isi dengan angka 1
 - b. Pada kotak School subject, tuliskan SDN ANGKE 03 PAGI.

Bacalah soal dengan teliti!



SILANG SALAH SATU JAWABAN YANG TEPAT!

I. PPKN KD. 3.2

1. Dayu ingin pergi ke sekolah. Sebelum pergi kesekolah sebaiknya dayu
kepada orang tua.

a. Mandi b. berpamitan c. sarapan

2. Gambar berikut yang menunjukkan sikap mematuhi aturan dirumah, sesudah pulang sekolah adalah... .



siti dan keluarga tengah melaksanakan aturan
di rumah, yaitu

a. Merapikan meja makan Bersama
b. Berdoa sebelum makan
c. Berbagi dengan adil

4. Berikut yang merupakan sikap tertib saat bermain adalah....

a. Mendengarkan perintah guru
b. Iri pada kemenangan teman
c. Berkerja sama dengan kelompok

5.



mereka berbeda dalam banyak hal, tetapi mereka

tetap berteman. Perbedaan adalah rahmat Tuhan, dan setiap orang terlahir ..

- a. Sempurna b. istimewa c. khusus.

II. Bahasa Indonesia KD. 3.1 - 3.3 – 3.4 – 3.6

1. Berikut ini yang merupakan huruf vokal adalah ...

- a. z b. y c. i

2. gambar berikut yang menunjukkan sikap duduk yang baik pada saat membaca adalah ...

a.



b.



c.



3. Mem baca buku dengan sikap yang baik , sangat penting untuk menjaga organ

- a.hidung b. telinga c. mata

4. Yang termasuk huruf vocal dari kata **pasta gigi**

- adalah... a. u dan i b. a dan i c. o dan i

5.



s e k r a m a

huruf disamping jika disusun menjadi

- kata... a. masker b. keramas c. meremas

6. Kalimat berikut yang merupakan kalimat perkenalan diri, adalah ...

- a. hallo, selamat pagi
b. hallo, perkenalkan nama saya Irma
c. hallo bisa berbicara dengan Irma

7. Nama panggilan memudahkan kita saat ... teman

a. Menyapa

b. menyuruh c. meneriaki

8. Gambar berikut yang termasuk anggota panca indra adalah



b.



c.



9. Andi sedang bermain bulu tangkis. Anggota tubuh yang digunakan andi untuk menggunakan raket adalah adalah

a. Kaki

b. kepala

c. tangan

10. Gambar berikut yang menunjukkan kegiatan merawat kebersihan tubuh adalah



b.



c.



III. Matematika KD. 3.1 – 3.2



1. banyak kelereng adalah

a. 11

b. 13

c. 15

2. Gambar berikut yang menunjukkan kumpulan benda berjumlah 12 adalah



b.



c.





3. lambang bilangan berikut dibaca

a. dua puluh satu


b. dua belas

c. dua puluh

4. Gambar berikut yang menunjukkan jari berjumlah 9 adalah



5. Kumpulan benda yang paling banyak adalah



6. 2 sampo _____ 5 sampo kalimat perbandingan yang

tepat untuk gambar tersebut adalah

a. lebih dari


b. kurang dari

c. sama dengan



7. himpunan bilangan berikut, jika di urutkan dari yang terkecil adalah

a. 6-5-4-3 b. 3-5-4-6 c. 3-4-5-6

8. 10, 9, , 6, 5 bilangan yang tepat untuk melengkapi himpunan bilangan berikut adalah

a. 8 -7 b. 7-8 c. 8-8



9. edo meletakkan 5 mangga dalam keranjang. Dirumput masih ada 2 mangga. Kalimat matematika yang tepat untuk cerita edo adalah

a. $4 + 4 = 8$ b. $5 + 2 = 7$ c. $_ + _ = _$



10. lani suka apel. Lani membeli 2 kantong apel. Masing masing kantong berisi 4 apel. Jumlah apel lani seluruhnya adalah ...


a. 8 apel b. 9 apel c. 10 apel

IV. SBDP KD. 3.1 – 3.2

1. Gambar berikut yang merupakan hasil karya melukis dengan mencetak jari tangan adalah



2. Contoh karya seni 2 dimensi adalah



salah satu bahan yang digunakan untuk membuat boneka tersebut adalah

a. kulit salak

b. biji jagung

c. kulit jagung

4. Dibawah ini yang merupakan contoh lagu anak adalah

a. hari merdeka

b. dua mata saya

c. manuk dadali

5. Irama adalah

a. bunyi yang teratur

b. tempo yang teratur

c. syair yang teratur