






Họ và tên: Lớp:







PHIẾU ÔN TẬP CUỐI TUẦN 12 – LỚP 1

MÔN TOÁN


Bài 1. Nối?

	$4 - 1$
	$2 - 1$
	$3 - 2$
	$5 - 3$
	$4 - 2$


Bài 2: Số ?

	$3 - 1 = 2$
	$2 - 1 = \square$
	$3 - 2 = \square$
	$4 - 2 = \square$
	$3 - 3 = \square$
	$5 - 4 = \square$

Bài 3: Nêu phép tính thích hợp với mỗi tranh vẽ dưới đây:




$$\square \bigcirc \square = \square$$



$$\square \bigcirc \square = \square$$



$$\square \bigcirc \square = \square$$



$$\square \bigcirc \square = \square$$

Bài 4: Tính

$$2 + 3 - 1 =$$

$$4 + 2 - 1 =$$

$$1 + 5 - 2 =$$

$$3 + 3 - 4 =$$

Bài 5 : Điền số thích hợp vào ô trống:

$5 + \bigcirc = 6$
 $\bigcirc - 1 = \bigcirc$
 $\bigcirc = \bigcirc$
 $\bigcirc + \bigcirc = 4$