

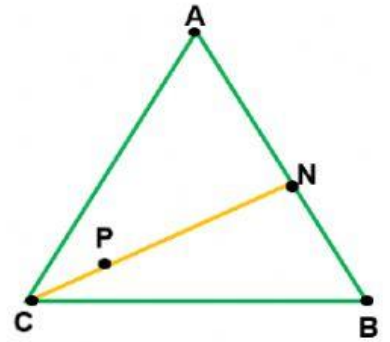
## ÔN TẬP TOÁN GIỮA KÌ I

**Câu 1:** Số thích hợp điền vào chỗ trống  $10\text{cm} = \dots \text{dm}$  là:

- A. 1                      B. 10                      C. 100

**Câu 2:** Hình bên có 3 điểm thẳng hàng là:

- A. C, P, N                B. A, N, B                C. Cả 2 đều đúng



**Câu 3:** Quan sát hình vẽ, ước lượng số quả bên dưới:

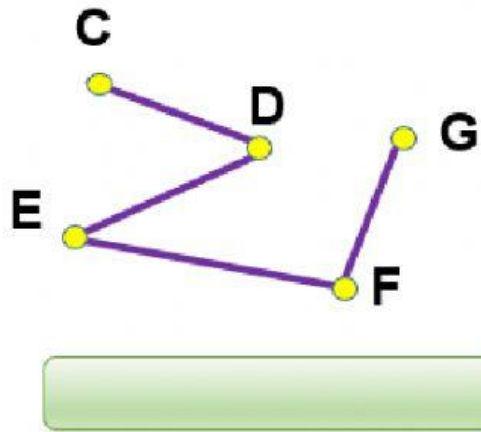
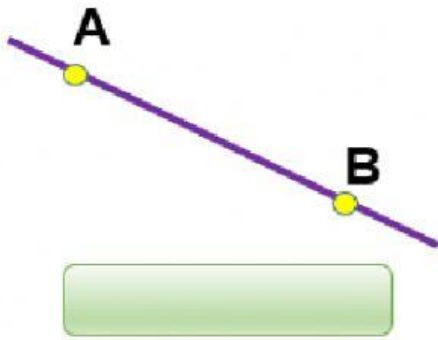


- A. khoảng 20 quả    B. khoảng 30 quả    C. khoảng 40 quả

**Câu 4:** Nói:



**Câu 5: Đây là hình gì?**



**Câu 6: Điền đơn vị đo phù hợp vào ô trống:**



Chiếc ghế cao khoảng 9 .....



Chiếc bàn cao khoảng 70 .....

**Câu 7: Viết phép tính thích hợp:**

Trong tổ có 14 con ong,  
sau đó có 5 con ong bay đi.  
Hỏi trong tổ còn lại bao nhiêu con ong?

--	--	--	--	--



**Trả lời:** Trong tổ còn lại ..... con ong.