

EVALUACION NÚMEROS DECIMALES

Contenido: Lectura, representación, comparación y orden de decimales.

NAME: FECHA : 25 de noviembre Total: 23 Puntos

1.- Escribe como se leen los siguientes números decimales. (2 pts c/u, 10 pts en total)

23,1 _____


11,23 _____


0,5 _____

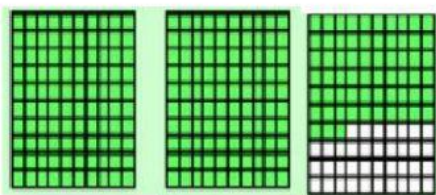
6,24 _____

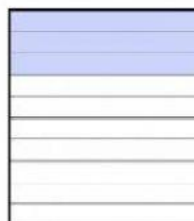
0,67 _____

2. Identifica el número decimal representado en cada caso. (1 pts c/u, 4 pts en total)









3. Ordena de Mayor a Menor los siguientes números decimales. (1 pts c/u, 5 pts en total)

6,45

6,7

6,24

6,81

6,57

>

>

>

>

4. Escribe los siguientes números decimales. (1 pts c/u, 4 pts en total)

a. Siete enteros y seis décimos _____

b. Nueve centésimos _____

c. Veintiún enteros y cuarenta y tres centésimos _____

d. Doce enteros y cinco décimos _____