

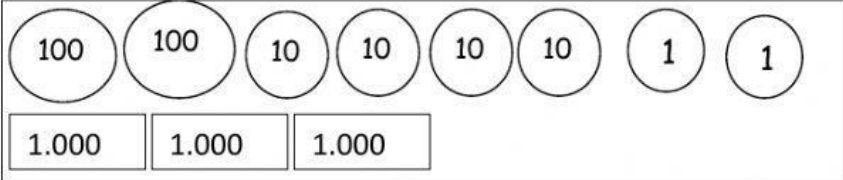



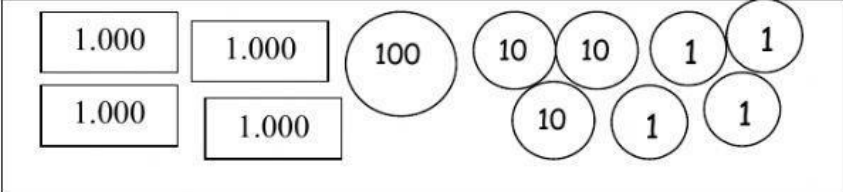

Ficha de repaso.

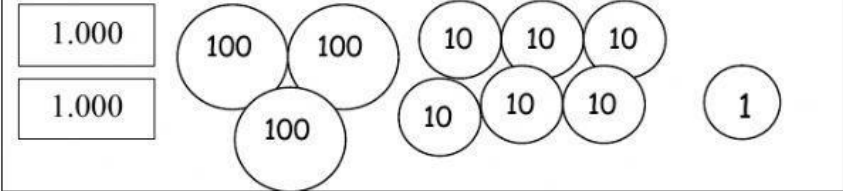

1.- Lee y escribe el número que corresponde en cada caso.

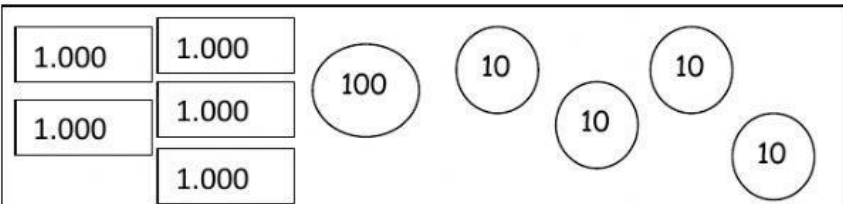

- a) Dos mil doscientos treinta y ocho :
- b) Siete mil doscientos cuatro :
- c) Cinco mil seiscientos noventa :
- d) Nueve mil cuarenta y nueve :

2.- Observa cada cantidad de dinero y escribe con números su valor total.

a)  

b)  

c)  

d)  

3.- Identifica la posición y el valor posicional de los siguientes números.

Número	Posición	Valor Posicional.
2. <u>4</u> 58		
8.7 <u>4</u> 9		
<u>2</u> .062		
5.03 <u>7</u>		

4.- Ordena los siguientes números de menor a mayor.

4.564 – 4.546 – 4.456 – 4.465

--	--	--	--

5.- Ordena los siguientes números de mayor a menor.

5.786 – 5.686 – 5.768 – 5.668

--	--	--	--

6.- Observa la descomposición y escribe el número correspondiente.

a) $7.000 + 700 + 40 + 7 =$ _____

b) $5.000 + 600 + 1 =$ _____

c) $3 \text{ UM} + 5 \text{ C} + 4 \text{ D} + 3 \text{ U} =$ _____

d) $8 \text{ UM} + 5 \text{ D} + 3 \text{ U} =$ _____

7.- Compara con $>$, $<$ o $=$.



a) 4950 5190

b) 890 8570

c) 9248 9218

d) 5755 5783

e) 6801 689



8.- Calcula

$$\begin{array}{r} 543 \\ + 298 \\ \hline \end{array}$$

$$\begin{array}{r} 767 \\ + 154 \\ \hline \end{array}$$

$$\begin{array}{r} 579 \\ + 381 \\ \hline \end{array}$$

$$\begin{array}{r} 315 \\ - 124 \\ \hline \end{array}$$

$$\begin{array}{r} 545 \\ - 290 \\ \hline \end{array}$$

$$\begin{array}{r} 614 \\ - 238 \\ \hline \end{array}$$