



YAYASAN PANGUDI LUHUR
SLB B PANGUDI LUHUR

Intervensi Dini-TKLB-SDLB-SMPLB-SMALB
Jl. Pesanggrahan 125, Kembangan, Jakarta Barat 11610 Telp/Fax : (021) 5804223
Email : slbpl-jkt@pangudiluhur.org Website : <http://slbpl-jkt.pangudiluhur.org>

Hari, tanggal : Rabu, 24 November 2021
Mata Pelajaran : Matematika
Kelas : 3B
Nama :

Latihan PAS 1

- A. Pilihlah jawaban yang paling benar pada huruf a, b atau c!**
B. Isilah titik-titik berikut dengan jawaban singkat yang benar!

KD 3.3 Perkalian 2 bilangan

1. $45 + 45 + 45 + 45 = \dots$

Berikut ini yang merupakan bentuk perkalian yang benar adalah....

- a. 4×45
- b. 45×45
- c. $45 + 4$

2. $30 + 30 + 30 + 30 + 30 + 30 + 30 + 30 = \dots$

Berikut ini yang merupakan bentuk perkalian yang benar adalah....

- a. 6×30
- b. 7×30
- c. 8×30

3. $3 \times 23 = \dots$

- a. $3 + 21$
- b. $23 + 23 + 23$
- c. $21 : 3$

4. $5 \times 45 = \dots$

- a. $35 + 35 \times 35 + 25 \times 35$
- b. $354 \times 45 \times 45 \times 45 \times 35$
- c. $45 + 45 + 45 + 45 + 45$

5. Hasil perkalian yang benar dari $21 \times 8 = \dots$

- a. 169
- b. 168
- c. 108



YAYASAN PANGUDI LUHUR
SLB B PANGUDI LUHUR

Intervensi Dini-TKLB-SDLB-SMPLB-SMALB
Jl. Pesanggrahan 125, Kembangan, Jakarta Barat 11610 Telp/Fax : (021) 5804223
Email : slbpl-jkt@pangudiluhur.org Website : <http://slbpl-jkt.pangudiluhur.org>

19. Pengukuran dengan menggunakan jarak antara kedua tangan yang direntangkan disebut....
- hasta
 - depa
 - jengkal

20. Yang **bukan** merupakan contoh satuan tidak baku adalah
- meter
 - depa
 - jengkal



21. Jarak kedua daun jendela adalah
- 1 depa
 - 1 hasta
 - 2 jengkal




22. Panjang meja tersebut adalah
- 5 depa
 - 5 jengkal
 - 6 jengkal

perhatikan gambar di bawah ini



23. Jarak kedua pohon itu ... langkah.
- 5
 - 6
 - 7

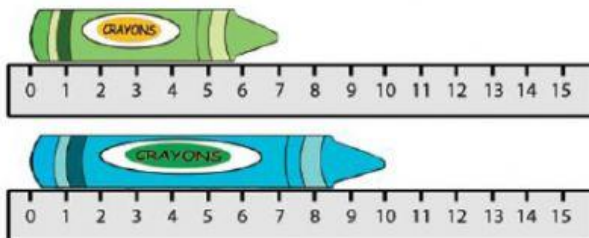
24.



Perhatikan gambar berikut! (lebih panjang/sama panjang/lebih pendek)

Pensil ... dibandingkan dengan penggaris.

25.



Perhatikan gambar berikut! (lebih panjang/sama panjang/lebih pendek)

Crayon biru ... dibandingkan dengan crayon hijau.

26.



Perhatikan gambar berikut! (lebih panjang/sama panjang/lebih pendek)

Spidol hitam ... dibandingkan dengan spidol biru.

27. Panjang pita Ani 21 cm. Panjang pita Rina 35 cm.

(lebih panjang/sama panjang/lebih pendek)

Pita Ani ... dibandingkan dengan pita Rina.

28.

(lebih panjang/sama panjang/lebih pendek)

Sapu ... dibandingkan dengan kemoceng.

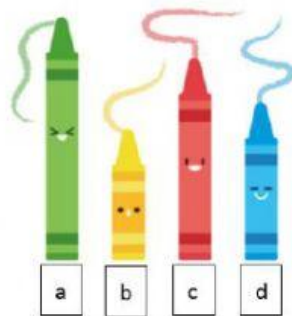




YAYASAN PANGUDI LUHUR SLB B PANGUDI LUHUR

Intervensi Dini-TKLB-SDLB-SMPLB-SMALB
Jl. Pesanggrahan 125, Kembangan, Jakarta Barat 11610 Telp/Fax : (021) 5804223
Email : slbpl-jkt@pangudiluhur.org Website : <http://slbpl-jkt.pangudiluhur.org>

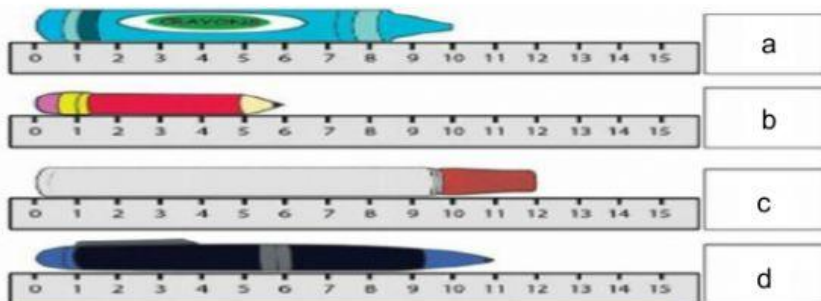
29. Urutkan benda berikut dari yang paling panjang!



Urutan benda dari paling panjang ke pendek:

__ - __ - __ - __

30. Urutkan benda berikut dari yang paling pendek!



Urutan benda dari paling pendek ke panjang:

__ - __ - __ - __

KD. 3.3 Uang



31. Gambar berikut adalah uang

- a. Lima puluh ribu
- b. Lima ribu rupiah
- c. Lima ratus rupiah

32. Rp11.000,00 dibaca

- a. sebelas ribu rupiah
- b. satu ribu puluh rupiah
- c. sebelas ratus rupiah



YAYASAN PANGUDI LUHUR SLB B PANGUDI LUHUR

Intervensi Dini-TKLB-SDLB-SMPLB-SMALB
Jl. Pesangrahan 125, Kembangan, Jakarta Barat 11610 Telp/Fax : (021) 5804223
Email : slbpl-jkt@pangudiluhur.org Website : <http://slbpl-jkt.pangudiluhur.org>



33. Gambar berikut adalah uang Rp20.000,00, dibaca

- A. dua ratus rupiah
- B. dua puluh ribu rupiah
- C. dua ratus ribu rupiah



34. Penulisan uang seratus ribu rupiah yang benar yaitu

- a. Rp1.000,00
- b. Rp10.000,00
- c. Rp100.000,00

35. Delapan ribu rupiah ditulis Rp....

- a. Rp800,00
- b. Rp8.000,00
- c. Rp80.000,00



36. $5000 + 2000 = \dots$



37. $20000 + 10000 = \dots$



38. $200 + 200 = \dots$



39. $100 + 500 = \dots$



40. $20000 - 10000 = \dots$



YAYASAN PANGUDI LUHUR SLB B PANGUDI LUHUR

Intervensi Dini-TKLB-SDLB-SMPLB-SMALB

Jl. Pesanggrahan 125, Kembangan, Jakarta Barat 11610 Telp/Fax : (021) 5804223

Email : slbpl-jkt@pangudiluhur.org Website : <http://slbpl-jkt.pangudiluhur.org>



41. $5000 - 2000 = \dots$



42. $500 - 200 = \dots$



43. $1000 - 500 = \dots$

44. Lala mempunyai uang sebanyak Rp20.000,00. Lala membeli bakso seharga Rp7.000,00. Berapa sisa uang Lala?

Sisa uang Lala

45. Ayah mempunyai uang Rp10.000,00 kemudian Ayah membeli roti. Sisa uang Ayah sekarang Rp2.000,00. Berapakah harga roti yang dibeli Ayah?

Harga roti yang dibeli Ayah

KD 3.4 Satuan Berat Tidak Baku dan timbangan

46. Ibu pergi ke warung sembako untuk membeli tepung terigu. Di di warung sembako, penjual tepung terigu menimbang berat tepung dengan menggunakan timbangan



a.



b.



c.






YAYASAN PANGUDI LUHUR
SLB B PANGUDI LUHUR

Intervensi Dini-TKLB-SDLB-SMPLB-SMALB



Jl. Pesanggrahan 125, Kembangan, Jakarta Barat 11610 Telp/Fax : (021) 5804223

Email : slbpl-jkt@pangudiluhur.org Website : <http://slbpl-jkt.pangudiluhur.org>

47. Dokter meminta Andi menimbang berat badannya. Timbangan yang digunakan Andi adalah timbangan

- a. 
- b. 
- c. 

48. Penjual daging di pasar menggunakan timbangan ... untuk menimbang berat daging.

- a. 
- b. 
- c. 