



DESCUBRIR




Ciencias Naturales
Segundo de básica
Unidad N°2
2020-2022

Conceptos:	Función	
Enfoque de aprendizaje:	Comunicación - escuchar	




INSTRUCCIONES

Observa con atención las siguientes imágenes y responde.
(1ptoc/u)




Marca con una **X** el órgano encargado de bombear la sangre, luego escribe debajo de la imagen el nombre que corresponde a cada uno.

		
<input type="checkbox"/>	<input type="checkbox"/>	<input type="checkbox"/>




Marca con una **X** el órgano encargado de realizar la respiración.

		
<input type="checkbox"/>	<input type="checkbox"/>	<input type="checkbox"/>

Marca con una **X** el órgano interno que procesa los alimentos.

		
<input type="checkbox"/>	<input type="checkbox"/>	<input type="checkbox"/>

Marca con una **X** el órgano que dirige todas las partes del cuerpo.

		
<input type="checkbox"/>	<input type="checkbox"/>	<input type="checkbox"/>

COMENTARIOS:

--