


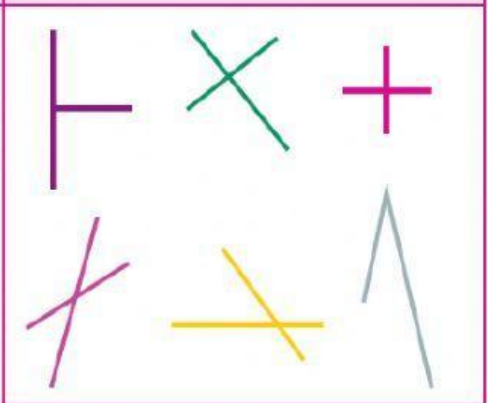
Observa y analiza las rectas paralelas, las secantes y perpendiculares. Después relaciona cada definición con el tipo de recta.

Rectas paralelas



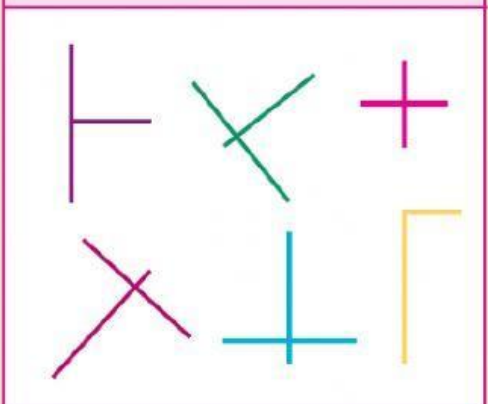
Dos o más líneas que se cortan o cruzan en un punto.

Rectas secantes



Rectas que se cortan en un punto y forman ángulos de 90° .

Rectas perpendiculares



Son aquellas líneas que mantienen una distancia igual y aunque se prolonguen nunca se cruzan.