






Evaluación de Ciencias Naturales Diseño N°5 "Los Materiales"

I. Marca la alternativa correcta de cada afirmación. (10/___)

1. Los materiales naturales son aquellos que:

<p>a)  Son elaboradas por un proceso químico</p>	<p>b)  Proviene de la naturaleza</p>	<p>c)  Son elaboradas por el hombre</p>
---	---	---

2. Los materiales artificiales son aquellos que:

<p>a)  Proviene de la naturaleza</p>	<p>b)  Son elaboradas por un proceso químico</p>	<p>c)  Son elaboradas por el hombre</p>
---	---	---

3. Los materiales frágiles son aquellos que:

<p>a)  Se doblan con facilidad</p>	<p>b)  Se rompen con facilidad</p>	<p>c)  Cuando se caen no se rompe</p>
---	---	---

4. Un material flexible es aquel que puede:

<p>a)  Se doblan con facilidad</p>	<p>b)  No se puede doblar</p>	<p>c)  No deja pasar el agua</p>
---	--	--

5. Un material impermeable es aquel que:

<p>a)  Puede estirarse</p>	<p>b)  Se rompen con facilidad</p>	<p>c)  No deja pasar el agua</p>
---	---	--

6. Un material Rígido es aquel que:

<p>a)</p>  <p>Puede estirarse</p>	<p>b)</p>  <p>No deja pasar el agua</p>	<p>c)</p>  <p>No se puede doblar</p>
--	--	--

7. Un material transparente es aquel que:

<p>a)</p>  <p>No podemos ver a través de el</p>	<p>b)</p>  <p>Podemos ver a través de el</p>	<p>c)</p>  <p>No deja pasar el agua</p>
--	---	---


8. ¿Cuál de estos objetos esta construido con un material Permeable?

<p>a)</p>  <p>Globo</p>	<p>b)</p>  <p>Gorro de lana</p>	<p>c)</p>  <p>Casa de madera</p>
---	---	---

9. ¿Cuál de estos objetos está construido con un material opaco?

<p>a)</p>  <p>Caja</p>	<p>b)</p>  <p>vaso</p>	<p>c)</p>  <p>Bol</p>
---	---	---

10. ¿Cuál de estos objetos está fabricado con un material resistente?

<p>a)</p>  <p>Candado</p>	<p>b)</p>  <p>vaso</p>	<p>c)</p>  <p>candado</p>
--	---	---

II. Une con una línea según corresponda. (12/____)
¿De qué están hechos los siguientes objetos?



Madera



Metal



Lana



Tela



Vidrio



Plástico



Arrastra la imagen que concuerda con lo que le pasa a estos objetos al aplicarle una fuerza. (4/___)



Arrastra la imagen que corresponda



Cambia de color



Se quiebra



No pierde su forma



Cambia de tamaño