

Prueba de Matemática
Fracciones propias

Nombre del Estudiante	Curso: 5° básico A		
	Fecha: ____ / ____ /2021		
O.A.(s):	OA. 7 Demostrar que comprenden las fracciones propias.		
Indicadores	<ul style="list-style-type: none"> • Representándolas de manera concreta, pictórica y simbólica. • Creando grupos de fracciones equivalentes. 		
Docente:	Cynthia Arros Seguel	Asignatura:	Matemática
Exigencia: 60%	Puntaje Ideal: 26 Puntos	Puntaje Obtenido:	

ITEM I: Selección múltiple: (Puntajes: 10 puntos/2 cada una)

Marca con un X la alternativa correcta:

1. La fracción un medio se representa simbólicamente como:

- a) $1/4$
- b) $1/2$
- c) $1/3$

2. La siguiente representación corresponde a la fracción:



- a) $1/3$
- b) $4/1$
- c) $1/4$

3. ¿Qué fracción es equivalente a $1/2$?

- a) $2/4$
- b) $3/2$
- c) $3/5$

4. Al amplificar la fracción $\frac{2}{5}$ por 3, se obtiene la fracción:

- a) $\frac{6}{10}$
- b) $\frac{6}{15}$
- b) $\frac{6}{3}$

5. Las fracciones propias son aquellas donde:

- a) El numerador y el denominador son iguales
- b) El numerador es mayor que el denominador
- c) El numerador es menor que el denominador.

ITEM II: Términos pareados. (Puntaje: 6 puntos/1 cada una)

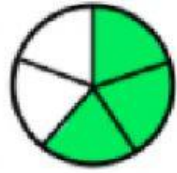
Une con una línea la fracción simbólica con su representación gráfica.



$$\frac{5}{9}$$



$$\frac{2}{6}$$



$$\frac{2}{8}$$



$$\frac{3}{5}$$



$$\frac{4}{10}$$

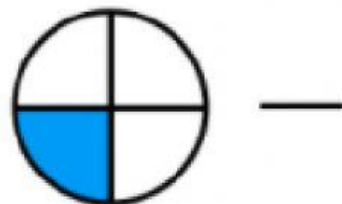
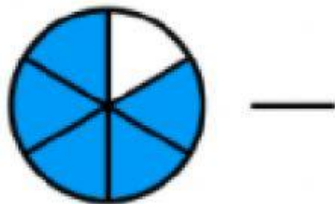
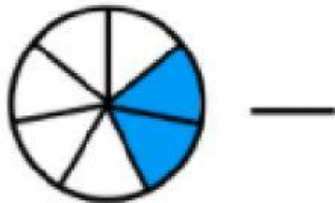
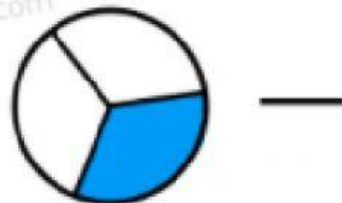
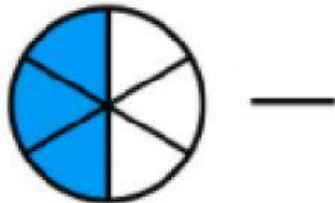
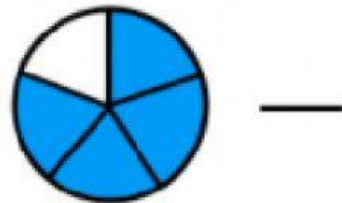
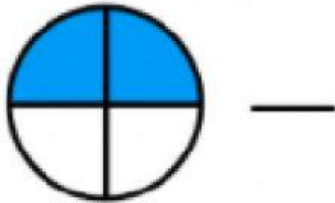
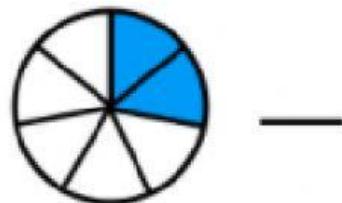
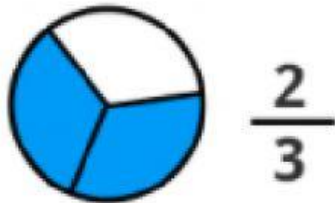


$$\frac{3}{6}$$

edufichas.com

ITEM III: Desarrollo. (Puntaje: 10 puntos/1 cada una)

Escribe la fracción correspondiente a cada representación.



edufichas.com