


# EVALUACIÓN


Imágenes  
Educativas.com



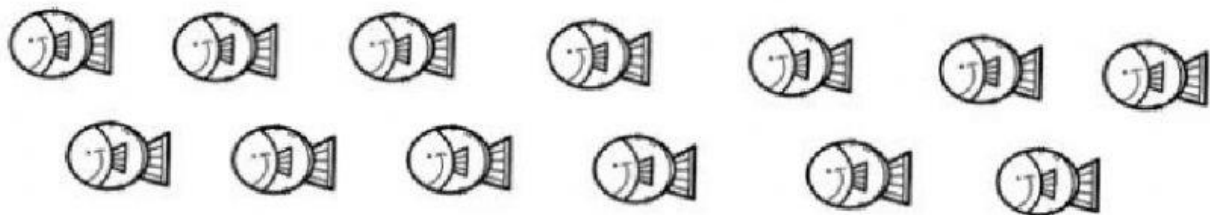
## ¿Número par o impar?




Hay \_\_\_\_\_ conejos. Es un número \_\_\_\_\_



Hay \_\_\_\_\_ hipopótamos. Es un número \_\_\_\_\_



Hay \_\_\_\_\_ peces. Es un número \_\_\_\_\_



Hay \_\_\_\_\_ mariposas. Es un número \_\_\_\_\_