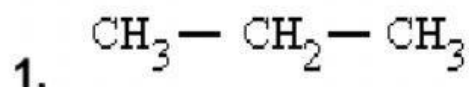
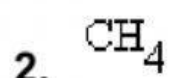


ALCANOS

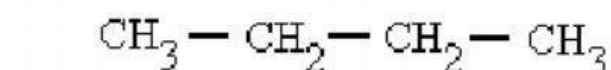
Señala el nombre correcto para estos compuestos:



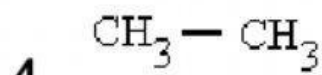
- a) propilo
- b) butano
- c) propano



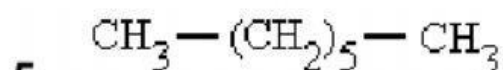
- a) metano
- b) etano
- c) metilo



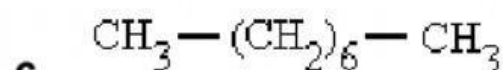
- a) propano
- b) butano
- c) pentano



- a) etano
- b) mengano
- c) propano



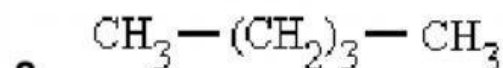
- a) octano
- b) hexano
- c) heptano



- a) decano
- b) octano
- c) nonano

7. Alcano lineal de 10 carbonos

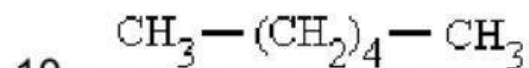
- a) hectano
- b) eicosano
- c) decano



- a) pentágono
- b) pentano
- c) pentilo

9. Alcano lineal de 11 carbonos

- a) undecano
- b) nonadecano
- c) eicosano



- a) bonano
- b) heptano
- c) hexano