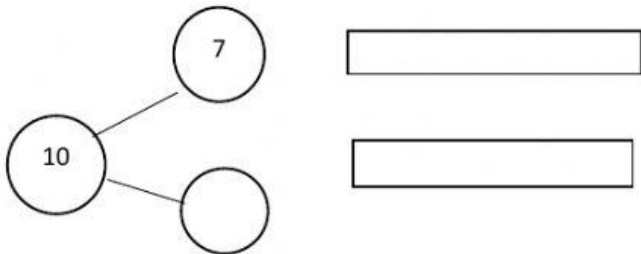
	GESTIÓN ACADÉMICA
	EXAMEN TRIMESTRAL

Estudiante:		Grado: 2 °A Y 2° B
Docente: Marisol de Brown/ Elvia Arroyo		Asignatura: Matemáticas.
Fecha: 11/nov/2021	Trimestre: III °	Nota:
Valor: puntos	Puntos obtenidos:	

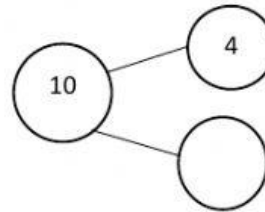
Resuelve las sumas Y resta mental. (20 puntos)

a. $210+7=$



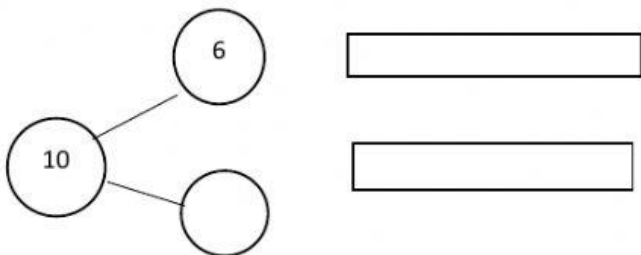
Entonces,

d. $85 + 4 =$



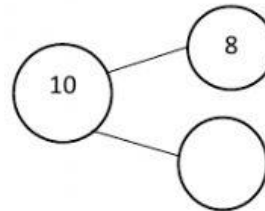
Entonces,

a. $43-6=$



Entonces,

d. $56 - 8 =$



Entonces,

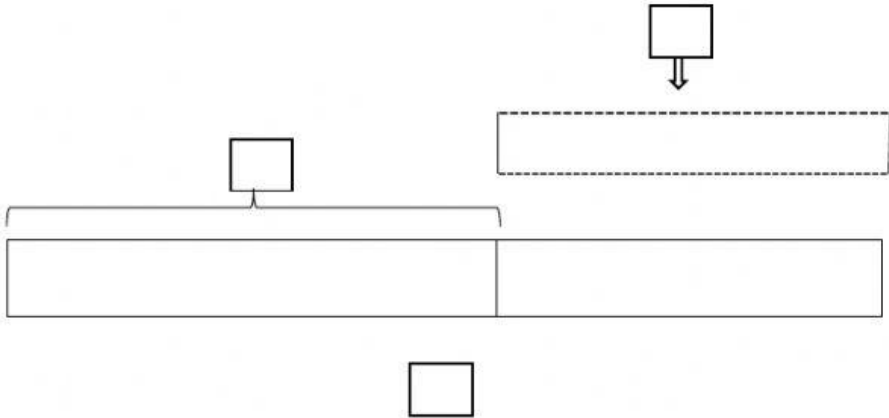
Resuelve el problemas con kilogramos. (5 puntos)

1. Alejandro pesa 29 kg. Su prima Melisa pesa 5 kg más que su amigo Juan.
¿Cuánto pesan entre los dos?

Respuesta

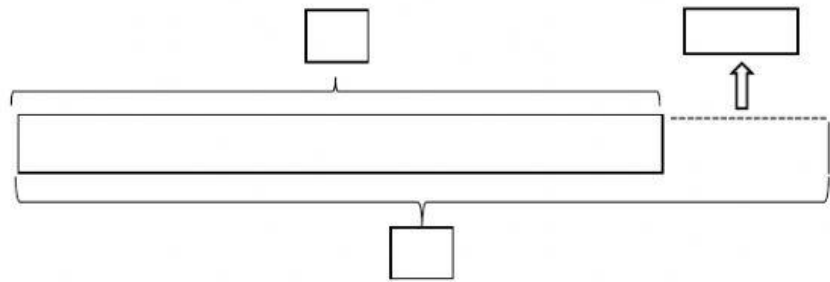
Resuelve el problema de dinero. (10 puntos)

1. Mi hermano tenía B/746. Mi tía le regaló B/ 298. Fue a la juguetería y gastó B/160 en un carrito a control remoto. ¿Cuánto dinero le queda?



Operación:

Respuesta:



Operación:

Respuesta:

Arrastra cada valor con la moneda correspondiente. (6 puntos)

Un balboa

Cincuenta centésimos

Un décimo

Un centésimo

Veinticinco centésimos

Cinco centésimos



¿Qué hora es? (2 puntos)



Escribe la hora y añade a.m. y p.m. (3 puntos)



Pablo se acuesta a dormir



Karla desayuna



Juan juega después de hacer las tareas.

¿Cuándo haces lo siguiente? Escribe la hora.

a. Te bañas

b. Entrás a la escuela

c. Ves televisión

d. A qué hora te acuestas a dormir