

NUMERACIÓN

1. Escribe el número veinticinco cinco mil uno:
2. En 8 485, ¿Cuál es la cifra de las centenas?
3. En el siguiente número, qué valor en unidades tiene el 2: 7 200
2
20
200
2 000
4. El número 2 076 se lee:

OPERACIONES

5. Algunos números de las siguientes operaciones se perdieron, completa las casillas para que el resultado sea correcto:

$$\begin{array}{r} 4 \quad 5 \quad 3 \quad 2 \\ + \quad 2 \quad \bigcirc \quad \bigcirc \quad 5 \\ \hline 7 \quad 1 \quad 8 \quad 7 \end{array}$$

$$\begin{array}{r} 80 \bigcirc 6 \\ - \quad 555 \\ \hline 746 \bigcirc \end{array}$$

6. Resuelve la multiplicación y división

[illegible]

LENGUAJE MATEMÁTICO:

7. Arrastra los términos de cada operación:

factor

sumando

dividendo

producto

divisor

minuendo

diferencia

cociente

sustraendo

Suma o total

$$525 + 103 = 628$$

Diagram showing the components of the addition operation: 525 (sumando), 103 (sumando), and 628 (suma o total).

$$678 - 567 = 111$$

Diagram showing the components of the subtraction operation: 678 (minuendo), 567 (sustraendo), and 111 (diferencia).

$$315 \times 25 = 7\,875$$


Diagram showing the components of the multiplication operation: 315 (factor), 25 (factor), and 7 875 (producto).

$$5\,736 : 3 = 1932$$

Diagram showing the components of the division operation: 5 736 (dividendo), 3 (divisor), and 1932 (cociente).

GEOMETRÍA

8. La figura geométrica:



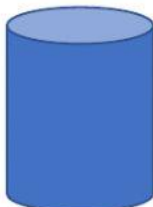
Se llama:

Tiene ☐ lados.

Tiene ☐ vértices.

Tiene ☐ ángulos

9. El cuerpo geométrico:



Se llama:

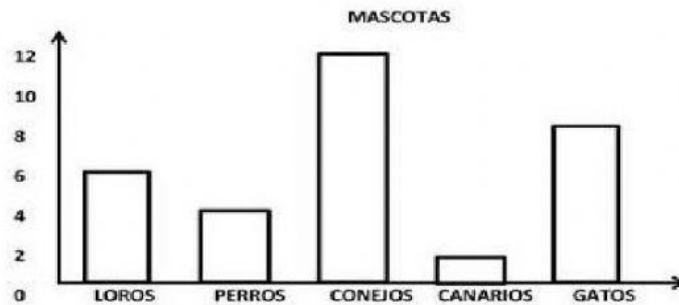
Tiene ☐ caras.

Tiene ☐ vértices.

Tiene ☐ bases.

Tratamiento de la información:

Observa el diagrama y responde con números solamente:



Resuelve en tu cuaderno y coloca las respuestas en la ficha:

- 1.- ¿Cuántas mascotas hay en total?
- 2.- ¿Cuántos loros menos que conejos hay?
- 3.- ¿Cuántos gatos más que perros hay?
- 4.- ¿Cuántos animales de cuatro patas hay en total?
- 5.- ¿Cuántos conejos más que perros hay?
- 6.- ¿Cuántos perros menos que loros hay?
- 7.- Si no hubiesen loros y canarios. ¿Cuántos animales tendríamos?



02



04



06




08



10

PROBLEMA:

10. Federico tenía 15 figuritas de AMONG US, ganó otras 6 y las colocó en siete hojas de un álbum. ¿Cuántas figuritas colocó en cada hoja?

Datos	Operación	Respuesta
		En cada hoja colocó <input type="text"/> figuritas.