




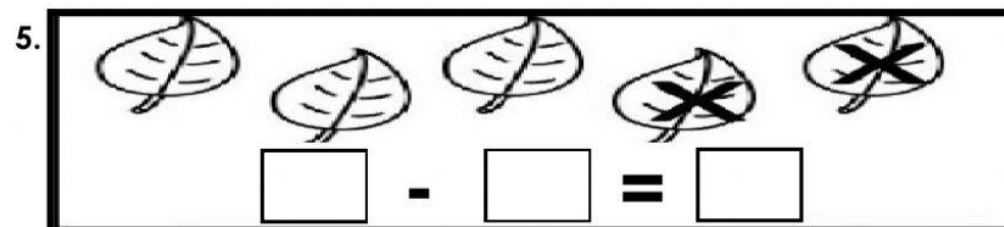
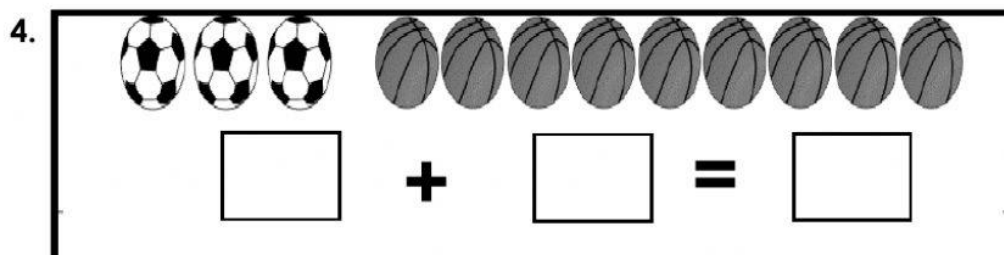
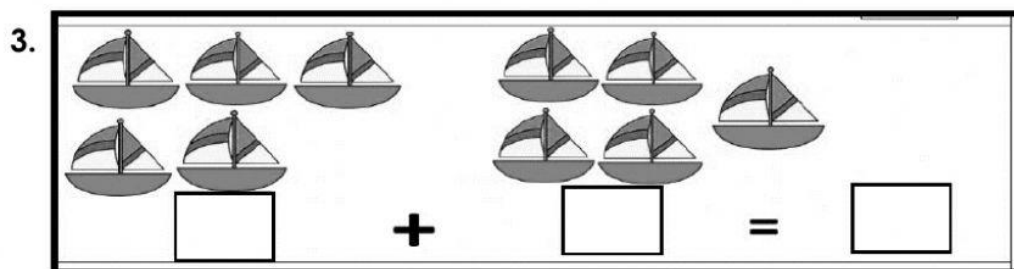
A.Kira dan tulis nombor.

(4 markah.)



A.Lengkapkan ayat matematik dibawah

(8 markah.)



C. Tambah dan tolak.

(8 markah.)

7. $2 + 6 = \square$

8. $7 + 7 = \square$

9. $9 - 2 = \square$

10. $15 - 8 = \square$

D. Jumlahkan

(9 markah.)

11.

	5	4
+	2	5
<hr/>		

12.

	4	3
+		9
<hr/>		

13. $39 + 14 =$

+		
<hr/>		

D. Kira baki.

(9 markah.)

14.

	6	7
-		2
<hr/>		

15.

	8	7
-	4	4
<hr/>		

13. $51 - 25 =$

-		
<hr/>		

D. Selesaikan

(12 markah.)

17. Anita ada 6 ekor Arnab hitam dan 3 ekor Arnab putih. Berapakah semuanya?

$$\square \bigcirc \square = \square$$

Semuanya ada _____ Arnab.

18. Anita ada 8 ekor lebah. Datang lagi 7 ekor lebah. Berapakah lebah yang ada?

$$\square \bigcirc \square = \square$$

Ada _____ ekor lebah.

19. Di dalam sebuah akuarium ada 9 ekor ikan. Latif mengeluarkan 2 ekor ikan. Kira bilangan ikan yang masih ada

$$\square \bigcirc \square = \square$$

Dalam akuarium masih ada _____ ekor ikan.

19. Pak Dali membela 15 ekor lembu. 6 ekor lembu adalah lembu betina. Berapakah bilangan lembu jantan.

$$\square \bigcirc \square = \square$$

Dalam akuarium masih ada _____ ekor ikan.