

Họ và tên:

Lớp :

PHIẾU HỌC TẬP TUẦN 10

Bài 1. Tính

$2 + 7 = \dots\dots$

$4 + 4 = \dots\dots$

$3 + 7 = \dots\dots$

$2 + 3 = \dots\dots$

$5 + 3 = \dots\dots$

$0 + 5 = \dots\dots$

$3 + 1 = \dots\dots$

$8 + 0 = \dots\dots$

$3 + 3 = \dots\dots$

Bài 2: Điền số?

$4 + \dots = 9$

$5 + \dots = 7$

$\dots + 5 = 8$

$6 + 4 = \dots$

$\dots + 6 = 6$

$1 + \dots = 8$

$\dots + 2 = 7$

$\dots + 8 = 8$

Bài 3: Cho các số: 0, 8, 5, 9, 3, 10, 4

a. Số lớn nhất là:

b. Số lớn hơn 2 và bé hơn 9 là:

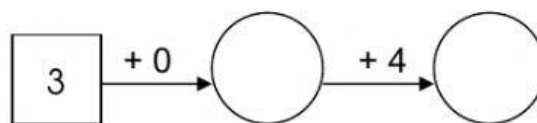
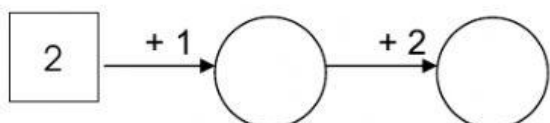
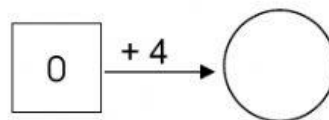
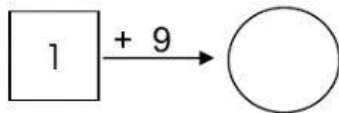
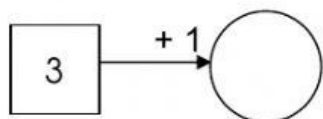
c. Các số trên sắp xếp theo thứ tự từ bé đến lớn:

--	--	--	--	--	--	--

d. Các số trên sắp xếp theo thứ tự từ lớn đến bé:

--	--	--	--	--	--	--


Bài 4: Số?



Bài 5. Viết phép tính thích hợp:

--	--	--	--	--

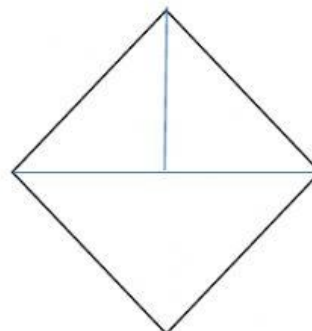
--	--	--	--	--



Bài 6: Hình bên có:

-..... Hình tam giác

- Hình vuông



Bài 7. Đọc

Mẹ đi chợ. Thi ra ngô chờ mẹ. Mẹ mua mía, dứa, cả dứa lê cho Thi.

Viết dấu cộng (+) vào trước đáp án đúng:

1. Mẹ đi ...

A. chợ

B. ra ngô

2. Mẹ mua cho Thi ...

A. Mía, dứa, dứa chua

B. mía, dứa, dứa lê

Bài 8: Điền **ui** hay **ũĩ**?

M cam

g thư

chia v

ng mùi

Bài 9 : Điền **iu** hay **ươ**?

cái r

quả l

con c

êm d

Bài 10. Nối thành câu rồi đọc lại:

Chú bộ đội
Quê nội Ngân
Chị Lan mua cho bé

gối thêu màu tím.
có mũ tai bèo.
có đôi núi.

