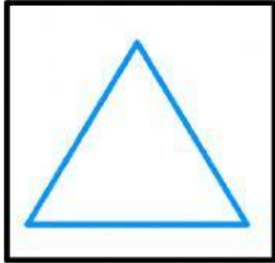
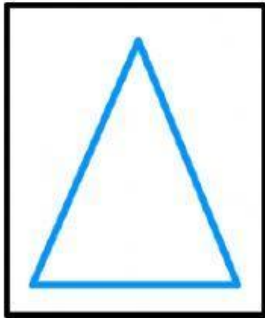


¿Qué triángulo me encontré?

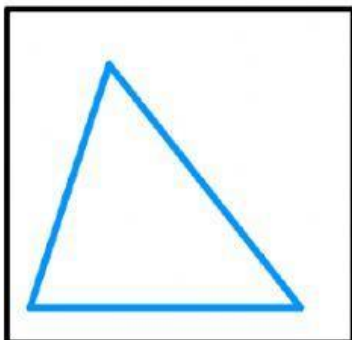
Relaciona triángulos con su respectivo nombre:



ESCALENO



EQUILÁTERO



ISÓSCELES