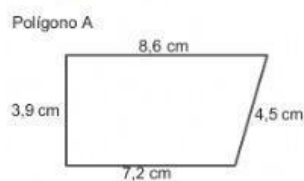


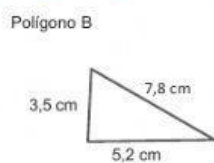
11 FIGURAS PLANAS Y ÁREAS 2

Indica cuántas diagonales tienen estos polígonos y calcula sus perímetros.



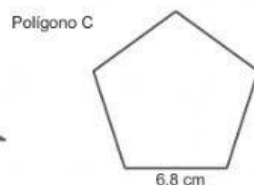
DIAGONALES:

PERÍMETRO:



DIAGONALES:

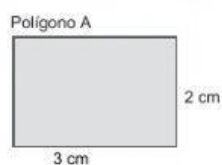
PERÍMETRO:



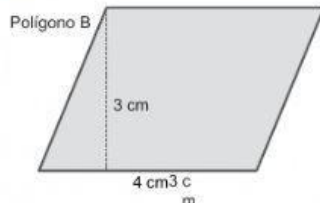
DIAGONALES:

PERÍMETRO:

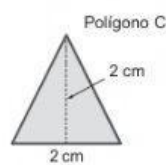
Calcula el área de estas figuras.



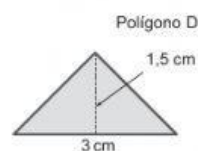
ÁREA:



ÁREA:



ÁREA:



ÁREA:

El padre de Teresa tiene que poner un cristal hexagonal en la mesa del comedor. Sabiendo que el lado mide 50 cm y la apotema mide 40 cm, ¿cuál es el área del cristal?

SOLUCIÓN: