

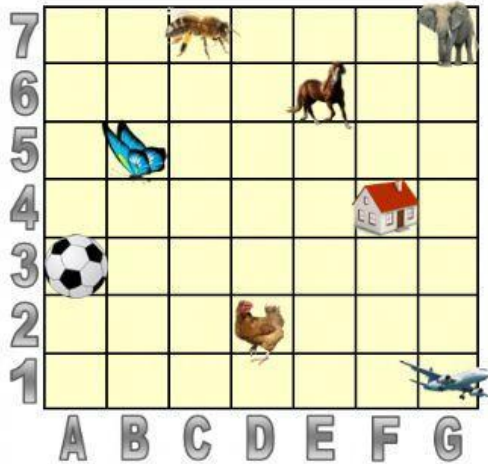
Escola:

Aluno(a):

Localização por Coordenadas na Malha Quadriculada


Atividade Interativa

1º De acordo com os pontos faça a localização das figuras.



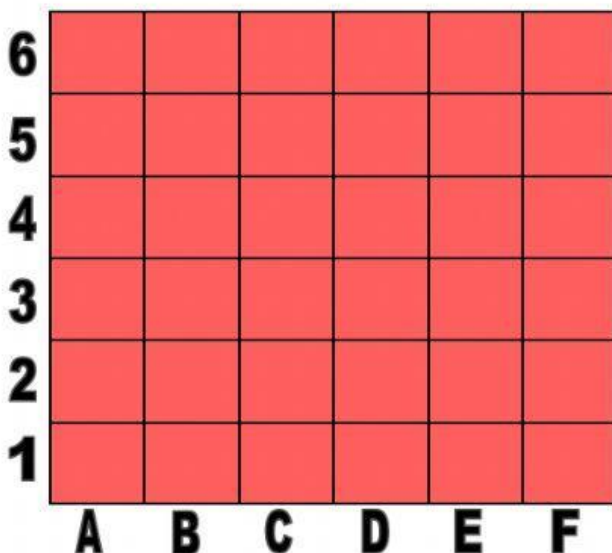
- a) P. F - 4 _____
- b) P. C - 7 _____
- c) P. A - 3 _____
- d) P. G - 1 _____
- e) P. E - 6 _____
- f) P. B - 5 _____
- g) P. D - 2 _____
- h) P. G - 7 _____

2º Observe as coordenadas e escreva os pontos onde está localizada cada figura.



- a) Ema _____
- b) Melancia _____
- c) Peixe _____
- d) Beija-flor _____
- e) Cavalo _____
- f) Helicóptero _____
- g) Leão _____
- h) Vaca _____

3º Arraste a figura para o ponto certo de acordo com as coordenadas



P. C - 4



P. D - 1



P. E - 2



P. F - 6



P. F - 3



P. E - 4



P. A - 6



P. B - 5