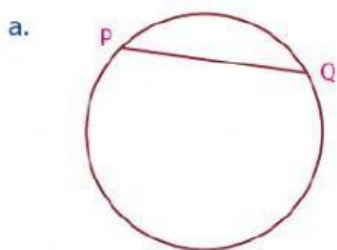
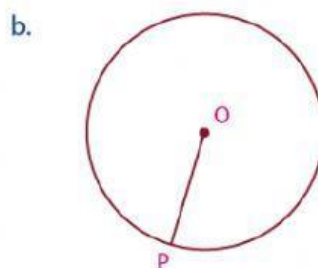


## REPASO N°05 DE MATEMATICA LA CIRCUNFERENCIA


1. Indica los elementos de los siguientes gráficos:



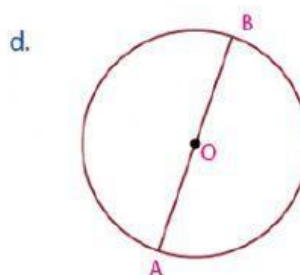
Cuerda : \_\_\_\_\_  
Arco : \_\_\_\_\_



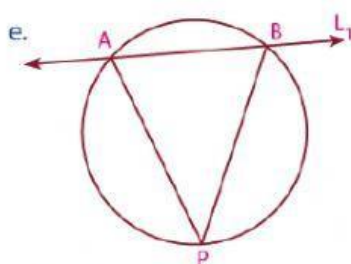
Centro : \_\_\_\_\_  
Radio : \_\_\_\_\_



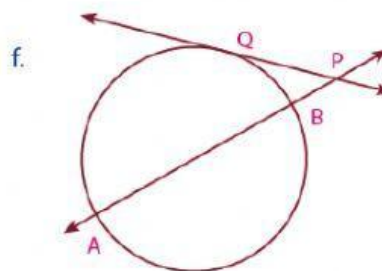
Recta tangente : \_\_\_\_\_  
Recta secante : \_\_\_\_\_



Centro : \_\_\_\_\_  
Diámetro : \_\_\_\_\_

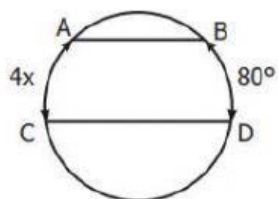


Recta secante : \_\_\_\_\_  
Cuerdas : \_\_\_\_\_

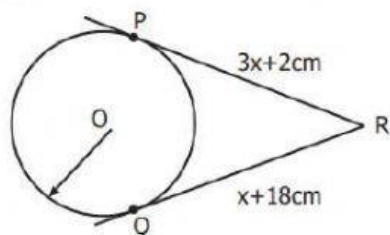


Recta tangente : \_\_\_\_\_  
Recta secante : \_\_\_\_\_  
Cuerda : \_\_\_\_\_

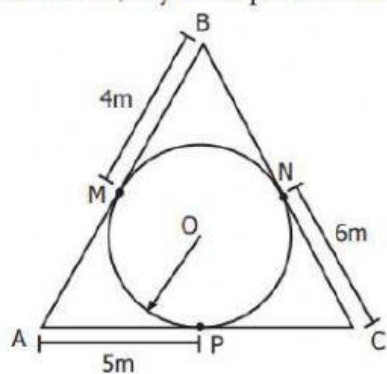
Calcula «x» si  $\overline{AB} \parallel \overline{CD}$



Calcula «x». Además, P y Q son puntos de tangencia.



Calcula la longitud del perímetro del triángulo ABC; además M, N y P son puntos de tangencia.



Calcula «x» si A, B, C son puntos de tangencia.

