


Complete the number patterns
by counting on or back.



🎁 Count on in 1's from 5.

| | | | | | | | | | |
|---|---|---|--|--|--|--|----|----|--|
| 5 | 6 | 7 | | | | | 12 | 13 | |
|---|---|---|--|--|--|--|----|----|--|

📦 Count back in 1's from 17.

| | | | | | | | | | |
|----|----|----|--|--|--|--|--|--|--|
| 17 | 16 | 15 | | | | | | | |
|----|----|----|--|--|--|--|--|--|--|

⚡ Count on in 2's from 2.

| | | | | | | | | | |
|---|---|--|---|--|----|--|--|--|--|
| 2 | 4 | | 8 | | 12 | | | | |
|---|---|--|---|--|----|--|--|--|--|

🌀 Count back in 2's from 10.

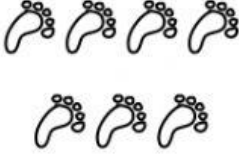



| | | | | | | |
|----|---|--|--|--|--|--|
| 10 | 8 | | | | | |
|----|---|--|--|--|--|--|

🏈 Count on in 5's from 0 - 30

| | | | | | | |
|---|---|--|----|--|----|----|
| 0 | 5 | | 15 | | 25 | 30 |
|---|---|--|----|--|----|----|

Compare numbers.

more / less

| | | | |
|---|---|--|---|
|  |  |  |  |
| more | less | | |

| | | | |
|------|------|---|---|
| 3 | 5 | 4 | 3 |
| less | more | | |

| | | | |
|---|---|---|----|
| 5 | 4 | 9 | 10 |
| | | | |

| | | | |
|------|------|-----|------|
| four | six | six | five |
| less | more | | |

| | | | |
|-------|------|-----|-------|
| eight | nine | ten | seven |
| | | | |