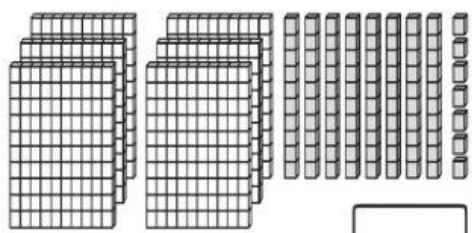
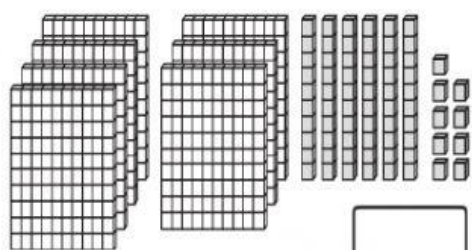


Apellidos y nombres: \_\_\_\_\_

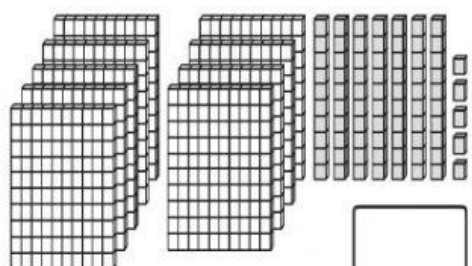
1 Escribe los números en cada representación.


 →  C  D  U →  +  +

→ Se lee \_\_\_\_\_


 →  C  D  U →  +  +

→ Se lee \_\_\_\_\_


 →  C  D  U →  +  +

→ Se lee \_\_\_\_\_

3 Selecciona todos los números pares.

365

549

782

894

658

971



297

486

720

513

848

957

4 Resuelve las siguientes sumas y restas:

C	D	U
○	○	
2	4	8
4	7	5

+

C	D	U
○	○	
5	3	6
3	9	7

+

C	D	U
○	○	○
8	3	7
2	7	9

-

C	D	U
○	○	
9	2	9
1	9	6


5 Resuelve las ecuaciones.

a)  $x + 32 = 58$

b)  $x - 29 =$

- 6 Observa el orden en que están los niños y completa los espacios en blanco con las palabras del cuadro.

primero segundo quinto tercero decimosegundo séptimo octavo  
cuarto noveno undécimo decimotercero décimo sexto



- 7 Relaciona las expresiones que tengan el mismo valor.

$$9 + 9 + 9 + 9$$

25

7 veces 3

$$8 + 8 + 8$$

30

8 veces 3

$$5 + 5 + 5 + 5 + 5$$

21

9 veces 4

$$6 + 6 + 6 + 6 + 6$$

24

5 veces 5

$$3 + 3 + 3 + 3 + 3 + 3 + 3$$

36

6 veces 5