



3 vezes ou o triplo

- 1 Observe a cena a seguir e, depois, complete os cálculos.

Carlos é vendedor em uma loja.



- Quantos ventiladores Carlos espera vender no sábado?

Adição ▶ $5 + 5 + 5 =$ _____



Multiplicação ▶ $3 \times$ _____ = _____

Carlos espera vender _____ ventiladores no sábado.


Calcular **três vezes** um número é o mesmo que encontrar o **triplo** desse número.

- 2 Pinte o triplo da quantidade indicada em cada caso.

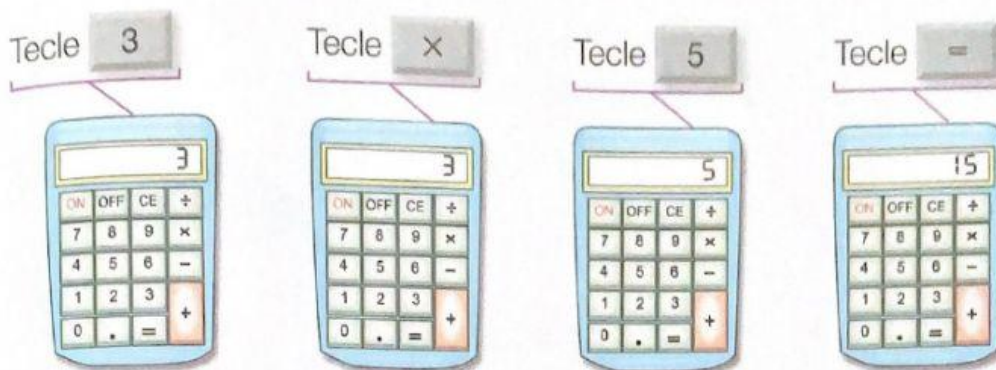
a)



b)



- 3 Veja como podemos calcular o resultado de 3×5 com o auxílio de uma calculadora.



- Agora, faça o que se pede.

a) Lucas apertou as teclas: 3 x 9 =

Que resultado apareceu no visor da calculadora?


b) Ana multiplicou dois números com a calculadora.

Uma das teclas apertadas foi 3, e o resultado foi 24.

Desenhe as teclas que Ana apertou.

Desafio

Um cachorro pegou 3 sacos com o mesmo número de bolinhas de ração em cada um. Para cada bolinha de ração que comeu, ele deu um latido. Após ter comido todas as bolinhas de ração dos 3 sacos, o cachorro havia dado 27 latidos.



- Pinte os 3 sacos que o cachorro pegou.