

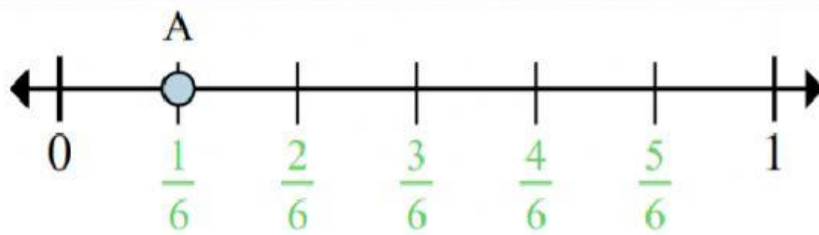
MATEMÁTICAS

Número de Lista: _____

Fecha: _____

Nombre del alumno: _____

RESUELVE

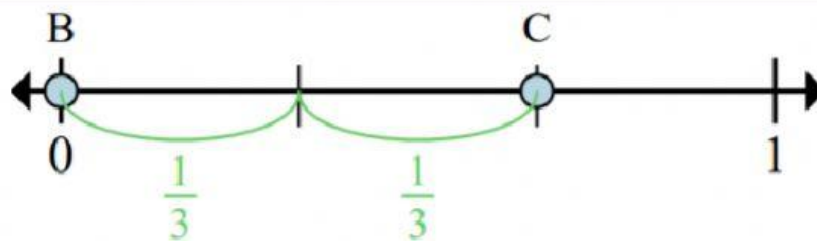


1. ¿Entre cuantas piezas se divide esta recta numérica?

6

2. ¿Cuál es la ubicación de A (escrito como una fracción)?

$\frac{1}{6}$

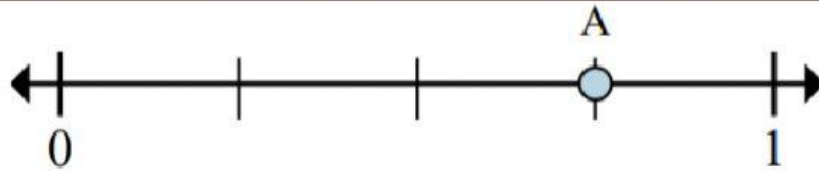


En esta recta numérica ¿cuál es el valor de 0 escrito como una fracción?

$\frac{0}{3}$

En esta recta numérica que tan lejos está B de C (escrito como una fracción)

$\frac{2}{3}$

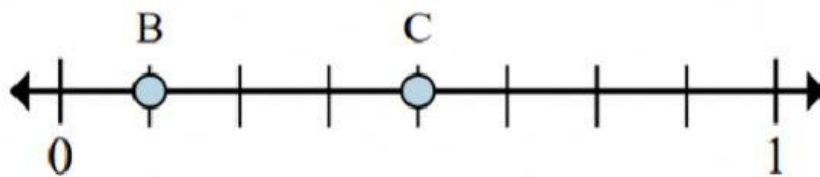


¿Entre cuantas piezas se divide esta recta numérica?

4

¿Cuál es la ubicación de A (escrito como una fracción)?

$\frac{3}{4}$

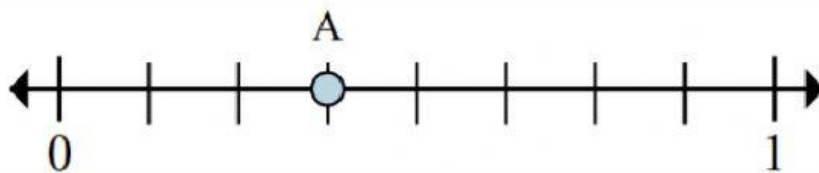


En esta recta numérica ¿cuál es el valor de 0 escrito como una fracción?

$\frac{0}{8}$

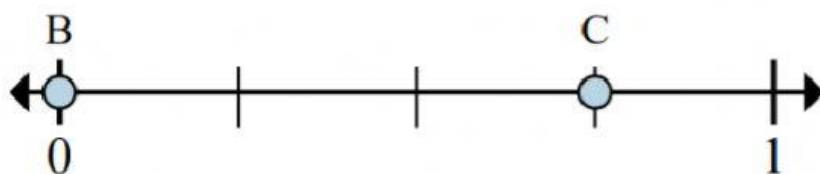
En esta recta numérica que tan lejos está B de C (escrito como una fracción)

$\frac{3}{8}$

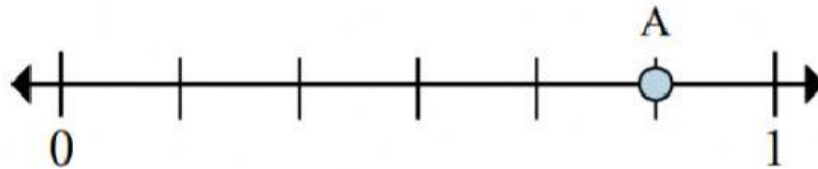


¿Entre cuantas piezas se divide esta recta numérica?

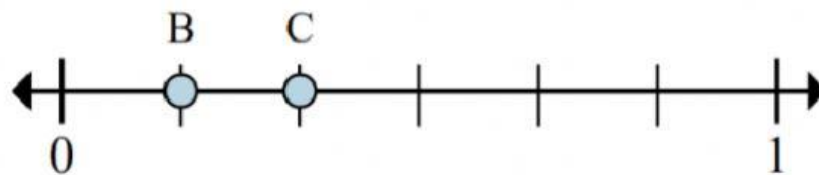
¿Cuál es la ubicación de A (escrito como una fracción)?



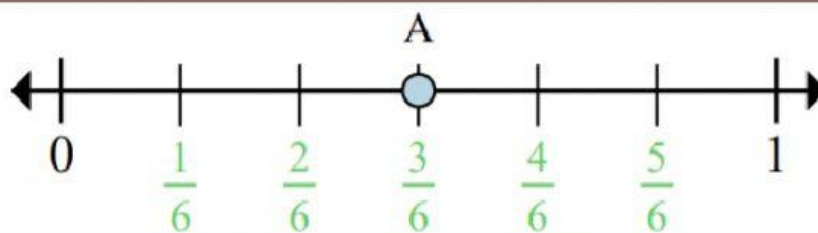
En esta recta numérica ¿cuál es el valor de 0 escrito como una fracción?	
En esta recta numérica que tan lejos está B de C (escrito como una fracción)	



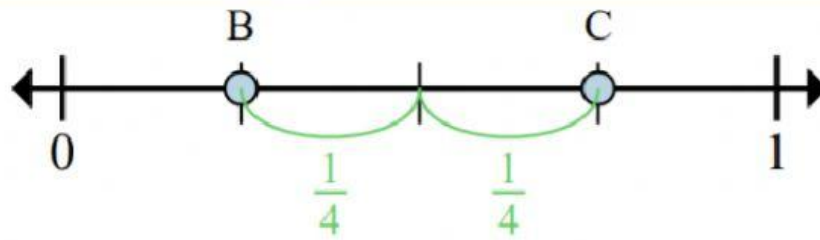
¿Entre cuantas piezas se divide esta recta numérica?	
¿Cuál es la ubicación de A (escrito como una fracción)?	



En esta recta numérica ¿cuál es el valor de 0 escrito como una fracción?	
En esta recta numérica que tan lejos está B de C (escrito como una fracción)	

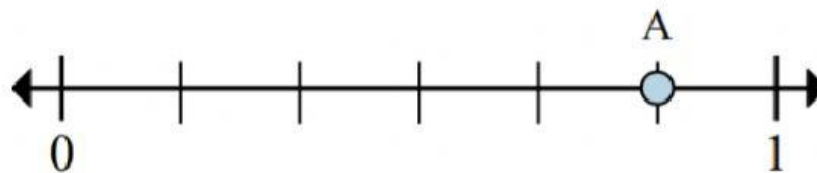


¿Entre cuantas piezas se divide esta recta numérica?	
¿Cuál es la ubicación de A (escrito como una fracción)?	



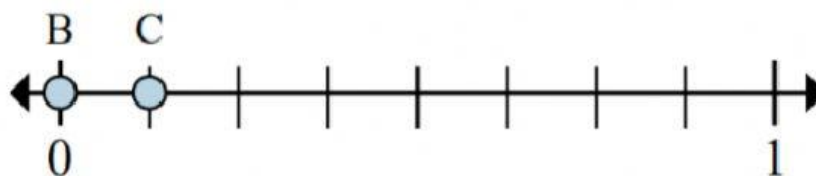
En esta recta numérica ¿cuál es el valor de 1 escrito como una fracción?

En esta recta numérica que tan lejos esta B de C (escrito como una fracción)?



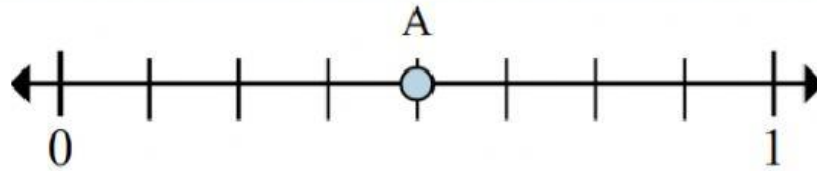
¿Entre cuantas piezas se divide esta recta numérica?

¿Cuál es la ubicación de A (escrito como una fracción)?



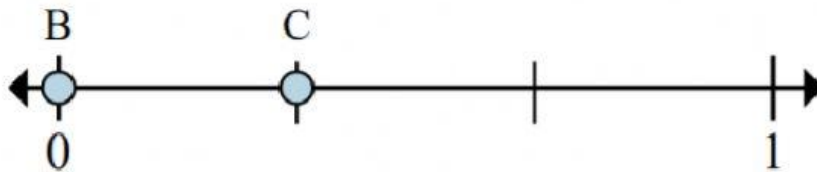
En esta recta numérica ¿cuál es el valor de 0 escrito como una fracción?

En esta recta numérica que tan lejos esta B de C (escrito como una fracción)?



¿Entre cuantas piezas se divide esta recta numérica?

¿Cuál es la ubicación de A (escrito como una fracción)?



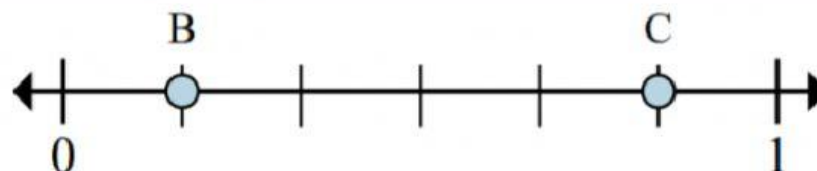
En esta recta numérica ¿cuál es el valor de 1 escrito como una fracción?

En esta recta numérica que tan lejos esta B de C (escrito como una fracción)?



¿Entre cuantas piezas se divide esta recta numérica?

¿Cuál es la ubicación de A (escrito como una fracción)?



En esta recta numérica ¿cuál es el valor de 0 escrito como una fracción?	
En esta recta numérica que tan lejos esta B de C (escrito como una fracción)?	