















EVALUACIÓN DE MATEMÁTICA

2° Básico

1 Analiza el pictograma.

Gallinas en cada gallinero

María

Pedro

Carol

Cada  representa **2** gallinas

a. ¿Quién tiene más gallinas?

María

Pedro

Carol

¿Cuántas tiene?

b. ¿Quién tiene menos gallinas?

María

Pedro

Carol

¿Cuántas tiene?

c. Si juntas todas las gallinas en un gallinero.

¿Cuántas gallinas tendrá el gallinero?

Respuesta: El gallinero tendrá gallinas.